



برای دیدن پاسخ آزمون غیرمضوری به صفحه‌ی ششمی خود در قسمت دریافت کارنامه در سایت کانون به آدرس www.kanoon.ir مراجعه نمایید و از منوی سمت راست گزینه‌ی آزمون غیرمضوری را انتخاب کنید.

فهرست آزمون غیرمضوری

دوره‌ی متوسطه‌ی دوم (پایه‌ی دهم انسانی)
(۳۱ فروردین ۱۳۹۷)

- ۳عربی زبان قرآن (۱).....
- ۴ریاضی و آمار (۱).....
- ۶اقتصاد.....
- ۸اقتصاد (شاهد «گواه»).....
- ۱۰علوم و فنون ادبی (۱).....
- ۱۱تاریخ (۱) ایران و جهان باستان.....
- ۱۲جغرافیای ایران.....
- ۱۳جغرافیای ایران (شاهد «گواه»).....
- ۱۴جامعه‌شناسی (۱).....

گروه فنی و تولید

لیلا فیروزی	مدیر گروه
حبیبه محبی	مسئول دفترچه
مهشید ابوالحسنی	حروف‌نگاری و صفحه‌آرایی
مستول دفترچه: فریبا رفوی	مدیر واحد مستندسازی و مطابقت با مصوبات
سوران نعیمی	نظارت چاپ



سوالاتی که با علامت * مشخص شده است مربوط به تغییرات کتاب درسی می‌باشد.

عربی زبان قرآن (۱)

عَيْنِ الْأَصْحَحِّ وَالْأَدَقِّ فِي الْجَوَابِ لِلتَّرْجُمَةِ أَوْ الْمَفْهُومِ: (۱ - ۴)

۱- «من العجيب أن تتكلمم اللدافين معاً باستخدام أصوات معيّنة، متى تُكشَف هذه الأسرار؟!»:

- ۱) عجیب است که دلفین‌ها با استفاده از صداهای شخصی با هم حرف می‌زنند، کی این رازها را کشف می‌کنند؟
- ۲) شگفت‌انگیز است که همه‌ی دلفین‌ها با به‌کارگیری اصوات معین صحبت می‌کنند، چه موقع این اسرار کشف می‌شوند؟
- ۳) عجیب است که دلفین‌ها با به‌کارگیری صداهای مشخصی با هم صحبت می‌کنند، چه زمان این رازها کشف می‌شوند؟
- ۴) از عجایب است که دلفین‌ها با صداهای مشخص حرف می‌زنند، چه کسی این رازها را کشف می‌کند؟

۲- «على كل مواطن صيانة أنابيب النفط حتى لا نشاهد خطراً!»:

- ۱) همه‌ی هم‌وطنان باید لوله‌های نفت را نگهداری کنند تا شاهد خطری نباشیم!
- ۲) باید هر هم‌وطنی اقدام به نگهداری از لوله‌ی نفت کند تا این‌که خطری نبینیم!
- ۳) بر همه‌ی هم‌وطنان است که از لوله‌های نفت صیانت کنند تا خطری مشاهده نشود!
- ۴) هر هم‌وطنی باید از لوله‌های نفت نگهداری کند تا خطری را مشاهده نکنیم!

۳- عَيْنِ الصَّحِيحِ:

- ۱) «استغرق استخراج النفط في مسجد سليمان وقتاً قصيراً»: استخراج نفت در مسجد سلیمان در زمان اندکی انجام پذیرفت.
- ۲) «ما كنت أصدق أن العطر و معجون الأسنان يصنعان من النفط»: هرگز باور نمی‌کردم که عطر و خمیردندان هم از نفت ساخته شوند.
- ۳) «وجد طلاب الطب أعشاباً على الجبل كانت طبيّة»: دانشجویان دانشکده‌ی پزشکی گیاهانی دارویی را بر روی کوهی پیدا کردند.
- ۴) «يحصد الفلاحون القمح في الصيف و بذلك يشعرون بالخير و البركة»: کشاورزان در تابستان گندم را درو می‌کنند و به‌خاطر آن احساس خیر و برکت می‌کنند.

۴- ما هو الأقرب من مفهوم هذه العبارة؟ «يُعرف الصديق عند المشاكل الكثيرة.»

- ۱) درخت دوستی بنشان که کام دل به بار آرد / نهال دشمنی برکن که رنج بی‌شمار آرد
- ۲) الغریب من لیس له حیبیب.
- ۳) دوست آن است که گیرد دست دوست / در پریشان‌حالی و درماندگی
- ۴) عداوة العاقل خیر من صداقة الجاهل.

۵- في أيّ الأجوابة جاءت الكلمة التي لا تناسب مع الكلمات الأخرى؟

- ۱) زُبْدَة - جُبْنَة - حَلِيب - شای
- ۲) وَقُود - غَاز - نَفْط - مَطَّاط
- ۳) أَنْف - لِسَان - عَيْن - رَجَل
- ۴) بَحْر - سَمَك التَّرِش - شَوَاطِئ - مَوَائِئ

۶- عَيْنِ الْجَارِّ وَ الْمَجْرُورِ خَيْرًا:

- ۱) العلم خیر من المال.
- ۲) أفضلكم أنفعكم لعباد الله.
- ۳) العالم بلا عمل كالشجر بلا ثمر.
- ۴) شأن المرء بالعلم يُرتفع.

۷- عَيْنِ مَا فِيهِ الْفِعْلُ الْمَجْهُولُ:

- ۱) تُعَوِّضُ أُمِّي قَلَّةَ فَيْتَامِينِ سَيِ بِنَاوِلِ عَصِيرِ اللَّيْمُونِ.
- ۲) الأطفال لا يُتركون وحدهم في البلاد الإسلامية.
- ۳) الأوفياء الأصدقاء الأوفياء عند المشاكل.
- ۴) نُقَاتِلُ الْكُفَّارَ فِي كُلِّ الْأُمُورِ.

۸- عَيْنِ الْجُمْلَةِ الَّتِي لَيْسَ فِيهَا «الْكَافُ» بِمَعْنَى التَّشْبِيهِ:

- ۱) زان الله السماء بأنجم كالذّرر المنتشرة.
- ۲) فَضَّلُ الْعَالِمِ عَلَى غَيْرِهِ كَفَضْلِ النَّبِيِّ عَلَى أُمَّتِهِ.
- ۳) أَنْصَحُكَ بِمُطَالَعَةِ الْكُتُبِ لِأَنَّكَ طَالِبٌ ذَكِيٌّ.
- ۴) المعاصي كالسّم و القليل منه يُقتل.

۹- عَيْنِ الْفَاعِلِ الضَّمِيرِ الْبَارِزِ:

- ۱) أَخْرَجْنَا مِنْ بِلَادِ أَعْدَاءِ ظَلَمُونَا.
- ۲) خَرَجَ الْأَعْدَاءُ مِنْ بِلَادِنَا بِسُرْعَةٍ.
- ۳) أَتَفَكَّرُ دَائِمًا حَوْلَ الْإِبْلِ كَيْفَ خُلِقَتْ.
- ۴) ذَهَبَتِ الطَّالِبَاتُ إِلَى الْمَسْجِدِ لِأَدَاءِ الصَّلَاةِ.

۱۰- عَيْنِ حَرْفِ الْجَرِّ بِمَعْنَى «فِي»:

- ۱) هو الَّذِي خَلَقَ لَكُمْ النِّعَمَ الْكَثِيرَةَ.
- ۲) «و لقد نصرکم الله ببدر»
- ۳) لكل ذنب توبة إلا سوء الخلق.
- ۴) الناس على دين ملوکهم.

ریاضی و آمار (۱)

۱۱- در ۵ داده‌ی آماری زیر، اختلاف میانگین از واریانس کدام است؟

۲, ۴, ۶, ۸, ۱۰

۴ (۴)

۲ (۳)

۱ (۲)

۱ (۱) صفر

۱۲- اگر انحراف معیار داده‌های x_1, x_2, x_3, x_4, x_5 برابر ۳ باشد، واریانس داده‌های $2x_1 + 2, 2x_2 + 2, 2x_3 + 2, \dots, 2x_5 + 2$ چقدر است؟

۳۶ (۴)

۲۵ (۳)

۱۸ (۲)

۹ (۱)

۱۳- اگر میانگین وزن نوجوانان یک شهر ۵۵ کیلوگرم و انحراف معیار، برابر ۱۲ باشد و $99/9$ درصد از مشاهدات بین سه برابر انحراف معیار

از میانگین قرار گیرد، می‌توان گفت تنها $1/0$ درصد از نوجوانان به ترتیب از راست به چپ وزنی بالاتر از ... کیلوگرم یا کمتر از ...

کیلوگرم دارند.

۳۱, ۷۹ (۴)

۳۱, ۹۱ (۳)

۴۳, ۶۷ (۲)

۱۹, ۹۱ (۱)

۱۴- برای متغیرهای اسمی کدام نمودار مناسب‌تر است؟

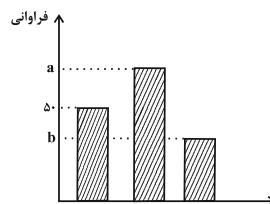
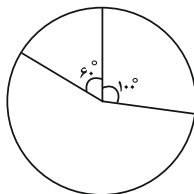
(۲) جعبه‌ای

(۱) بافت نگاشت

(۴) برای متغیرهای اسمی نمی‌توان نمودار رسم کرد.

(۳) میله‌ای

۱۵- اگر دو نمودار زیر مربوط به نمایش یک مجموعه داده‌ی آماری باشند، $a - b$ کدام است؟



۱۰۰ (۱)

۷۰ (۲)

۵۰ (۳)

۳۰ (۴)

اقتصاد

۲۱- به ترتیب، هر یک از موارد زیر، مربوط به کدام بخش از تاریخ معاصر ایران است؟

«عهدنامه‌های ننگین و مبالغ جریمه‌های گزاف آن‌ها - اعطای امتیازها به شرکت‌ها و کشورهای استعماری - تکیه‌ی اقتصاد ایران به بیرون از مرزها و قدرت‌های بزرگ - برچیده شدن بساط حاکمان وابسته به بیگانه - حاکم شدن ملت ایران بر سرنوشت خود - نوسازی ایران با صنایع مونتاژ - پدید آمدن نظام نوین در مالیات‌گیری و بودجه‌بندی کشور»

- ۱) از ۱۳۰۰ تا ۱۳۵۷ ه. ش - از ۱۳۰۰ تا ۱۳۵۷ ه. ش - سال‌های قبل از ۱۳۰۰ ه. ش - بعد از پیروزی انقلاب اسلامی - بعد از پیروزی انقلاب اسلامی
- ۲) سال‌های قبل از ۱۳۰۰ ه. ش - از ۱۳۰۰ تا ۱۳۵۷ ه. ش - سال‌های قبل از ۱۳۰۰ ه. ش - بعد از پیروزی انقلاب اسلامی - از ۱۳۰۰ تا ۱۳۵۷ ه. ش - از ۱۳۰۰ تا ۱۳۵۷ ه. ش - سال‌های قبل از ۱۳۰۰ ه. ش - سال‌های قبل از ۱۳۰۰ ه. ش - بعد از پیروزی انقلاب اسلامی
- ۳) سال‌های قبل از ۱۳۰۰ ه. ش - سال‌های قبل از ۱۳۰۰ ه. ش - سال‌های قبل از ۱۳۰۰ ه. ش - بعد از پیروزی انقلاب اسلامی - بعد از پیروزی انقلاب اسلامی - از ۱۳۰۰ تا ۱۳۵۷ ه. ش - سال‌های قبل از ۱۳۰۰ ه. ش - سال‌های قبل از ۱۳۰۰ ه. ش - بعد از پیروزی انقلاب اسلامی
- ۴) سال‌های قبل از ۱۳۰۰ ه. ش - سال‌های قبل از ۱۳۰۰ ه. ش - از ۱۳۰۰ تا ۱۳۵۷ ه. ش - بعد از پیروزی انقلاب اسلامی - بعد از پیروزی انقلاب اسلامی - از ۱۳۰۰ تا ۱۳۵۷ ه. ش - سال‌های قبل از ۱۳۰۰ ه. ش - سال‌های قبل از ۱۳۰۰ ه. ش - بعد از پیروزی انقلاب اسلامی

۲۲- کدام گزینه، تکمیل‌کننده‌ی جاهای خالی عبارات زیر است؟

الف) دولتی شدن بیش از حد اقتصاد ایران در ... و با ... شکل گرفت.
ب) محاصره‌ی اقتصادی ایران با هدف ... انجام گرفت.

ج) جریان توسعه و رشد اقتصاد کشور باید به‌گونه‌ای سازماندهی شود که ...

- ۱) الف) اوایل انقلاب اسلامی، افزایش درآمدهای نفتی، ب) تضعیف توان نظامی و فرهنگی کشور، ج) به محیط‌زیست آسیبی وارد نشود.
- ۲) الف) اوایل حکومت پهلوی، افزایش درآمدهای نفتی، ب) تضعیف توان اقتصادی و دفاعی کشور، ج) مشارکت بخش‌های خصوصی و مردمی افزایش یابد.
- ۳) الف) پایان حکومت پهلوی، افزایش درآمدهای نفتی، ب) تضعیف توان اقتصادی و دفاعی کشور، ج) به محیط‌زیست آسیبی وارد نشود.
- ۴) الف) پایان حکومت پهلوی، کاهش درآمدهای نفتی، ب) تضعیف توان فرهنگی و نظامی کشور، ج) مشارکت بخش‌های خصوصی و مردمی افزایش یابد.

۲۳- به ترتیب هر یک از موارد زیر به کدام اصل از قانون اساسی جمهوری اسلامی ایران اشاره دارد؟

- نظام اقتصاد جمهوری اسلامی ایران بر پایه‌ی سه بخش دولتی، تعاونی و خصوصی با برنامه‌ریزی منظم و صحیح استوار است.
- انفال و ثروت‌های عمومی در اختیار حکومت اسلامی است تا بر طبق مصالح عامه نسبت به آن‌ها عمل نماید.
- به مباحث مالی دولت شامل دریافت‌ها و درآمدهای دولت، بحث بودجه و نهادهای تصویب‌کننده و ناظر بر حسن اجرای آن تأکید دارد.

- ۱) اصول ۵۱ تا ۵۵ - اصل ۴۴ - اصول ۴۶، ۴۷ و ۴۹
- ۲) اصل ۴۴ - اصل ۴۵ - اصول ۵۱ تا ۵۵
- ۳) اصول ۴۶، ۴۷ و ۴۹ - اصل ۴۵ - اصول ۵۱ تا ۵۵
- ۴) اصل ۴۴ - اصول ۵۱ تا ۵۵ - اصول ۴۶، ۴۷ و ۴۹

۲۴- در ارتباط با اقتصاد در قانون اساسی چند عبارت صحیح است؟

الف) قانون اساسی در هر کشوری، چارچوب کلی نظام اقتصادی، اجتماعی و سیاسی آن را معلوم می‌سازد.
ب) قانون اساسی جمهوری اسلامی ایران در سال ۱۳۵۷ تدوین شده است.
ج) قانون اساسی با رعایت دو خواست مردم (برچیده شدن روابط غلط اقتصادی - طراحی نظام اقتصادی، اجتماعی بر پایه‌ی اصول انسان‌ساز اسلام) تدوین شد.

د) نوع نگاه جامعه به اقتصاد و قوانین حاکم بر آن، در اصول اقتصادی قانون اساسی آن کشور جلوه‌گر می‌شود.
ه) مباحث مرتبط با اقتصاد در قانون اساسی به اصول چهل و سوم تا پنجاه و پنجم محدود می‌شود.

- ۱) ۱
- ۲) ۲
- ۳) ۳
- ۴) ۴

۲۵- کدام گزینه در خصوص میزان حضور دولت در اقتصاد، در سال‌های اول بعد از پیروزی انقلاب درست است؟

- ۱) به‌دنبال اعلام قانون ملی شدن بعضی از فعالیت‌های اقتصادی، اداره‌ی تعداد قابل توجهی از کارخانه‌ها و مؤسسات تولیدی - تجاری به دولت سپرده شد و نقش و حضور دولت در اقتصاد افزایش یافت.
- ۲) اقتصاد ایران با آغاز جنگ تحمیلی علیه ایران، وضعیتی پیدا کرد که دولت به ناچار فعالیت خود در عرصه‌ی اقتصادی کشور را کاهش داد.
- ۳) پس از انقلاب، سعی شد تا دولت به نقش و وظایف اصلی خود بازگردد و مشارکت بخش‌های خصوصی و مردمی را افزایش دهد.
- ۴) با افزایش درآمدهای نفتی، قدرت اقتصادی دولت افزایش یافت و دولت به‌عنوان کارفرمایی بزرگ در عرصه‌ی اقتصاد مطرح شد.



۲۶- کدام یک از گزینه‌های زیر در رابطه با مؤلفه‌های اقتصاد مقاومتی نادرست است؟

- ۱) در اقتصاد دانش‌بنیان که یکی از مؤلفه‌های اقتصاد مقاومتی است، علاوه بر تولید دانش‌بنیان، فراگیر شدن دانش در تمام سطوح تولیدی و به‌کارگیری آن توسط تمامی تولیدکنندگان، کاهش هزینه‌ها و افزایش درآمدهای ملی را به ارمغان می‌آورد.
- ۲) صادرات محصولات با ارزش‌افزوده‌ی بالا به کشورهای متعدد در سراسر جهان، با اولویت کشورهای همسایه و شرکای تجاری، به مقاوم‌سازی اقتصاد کشور می‌انجامد.
- ۳) با توجه به مؤلفه‌ی کاهش اتکای بودجه و تراز تجاری به درآمدهای نفتی به‌عنوان یکی از مؤلفه‌های اقتصاد مقاومتی، هر چه منابع درآمدی کشور گوناگون‌تر باشد، مقاومت و در پی آن پیشرفت کشور بیشتر تضمین می‌شود.
- ۴) اقتصاد مقاوم، تنها باید در مقابل موانع بیرونی استحکام لازم را حفظ کند و همچنین قدرت تولیدی و پیشرفت اقتصادی با چگونگی استفاده از منابع خارجی و میزان سرمایه‌گذاری آن‌ها در کشور ارتباط زیادی دارد.

۲۷- در دهه‌ی دوم عمر انقلاب اسلامی، عزم کشور بر چه بود و دهه‌ی چهارم انقلاب چه عنوانی دارد؟

- ۱) حل مشکلات اقتصادی برجای‌مانده از زمان پهلوی و بازسازی خرابی‌های ناشی از جنگ - نوآوری و شکوفایی
- ۲) به ثمر رسیدن بسیاری از طرح‌های اقتصادی و مولد - نوآوری و شکوفایی
- ۳) حل مشکلات اقتصادی برجای‌مانده از زمان پهلوی و بازسازی خرابی‌های ناشی از جنگ - عدالت و پیشرفت
- ۴) به ثمر رسیدن بسیاری از طرح‌های اقتصادی و مولد - عدالت و پیشرفت

۲۸- کدام گزینه در خصوص اقتصاد مردمی نادرست است؟

- ۱) پیشرفت اقتصاد هر کشور در گروی پیشرفت اقتصادی آحاد مردم است.
- ۲) بهتر است رشد اقتصادی بیش از این‌که به رشد توانمندی و ارتقای قدرت تولیدی عموم مردم وابسته باشد، به رشد سرمایه‌های فیزیکی متکی گردد.
- ۳) در اثر رشد توانمندی‌های اقتصادی مردم، اقتصاد کشور با شتاب، استحکام، گستردگی و عمق بیش‌تر پیشرفت می‌کند.
- ۴) در اقتصاد مردمی، برنامه‌های دولت، زمینه‌ساز افزایش مشارکت مردم در اقتصاد است.

۲۹- عوامل کدام گزینه به تنوع منابع درآمدی ایران کمک می‌کند؟

- ۱) حرکت به سمت فروش نفت خام به جای فرآورده‌های نفتی - افزایش صادرات نفتی - تمرکز بر سرمایه‌گذاری خارجی
- ۲) تمرکز بر سرمایه‌گذاری خارجی - متکی بودن تنها بر صادرات یک محصول مهم - اصلاح نظام مالیاتی
- ۳) اصلاح نظام مالیاتی - متکی بودن تنها بر صادرات یک محصول مهم - حرکت به سمت فروش نفت به جای فرآورده‌های نفتی
- ۴) اصلاح نظام مالیاتی - افزایش صادرات غیرنفتی - حرکت به سمت فروش فرآورده‌های نفتی به جای نفت خام

۳۰- کدام گزینه در خصوص سند چشم‌انداز اقتصاد نادرست است؟

- ۱) اقتصاد کشور باید پیوسته رشد و شکوفایی مستمر داشته باشد، برای این منظور لازم است تمامی فعالان اقتصاد کشور، تصویر مطلوبی از آینده داشته باشند.
- ۲) بیش‌تر کشورها هماهنگی بین نخبگان، مردم و فعالان اقتصادی را با تدوین سند چشم‌انداز به دست می‌آورند.
- ۳) در سند چشم‌انداز ۲۰ ساله‌ی جمهوری اسلامی ایران (وضعیت اقتصادی در افق سال ۱۴۱۰ هـ. ش.) عواملی هم‌چون: کشوری با جایگاه اول اقتصادی در سطح منطقه‌ی خاورمیانه، ارتقای سطح تولید ملی، رسیدن به نرخ بیکاری صفر و ... برای ایران پیش‌بینی شده است.
- ۴) شاخص‌های کمی کلان برنامه‌های توسعه و بودجه‌های سالانه مانند میزان سرمایه‌گذاری، درآمد سرانه، میزان اشتغال، تورم و ... باید متناسب با این سند چشم‌انداز تنظیم و تعیین شود.

اقتصاد (شاهد «گواه»)

۳۱- کدام گزینه مبین پاسخ درست و کامل پرسش‌های زیر است؟

الف) این مطلب که «در تحکیم بنیان‌های اقتصادی، اصل، رفع نیازهای انسان در جریان رشد و تکامل اوست، نه هم‌چون دیگر نظام‌های اقتصادی تمرکز و تکاثر ثروت و سودجویی؛ زیرا که در مکاتب مادی، اقتصاد خود هدف است و بدین جهت در مراحل رشد، اقتصاد عامل تخریب، فساد و تباهی می‌شود ولی در اسلام، اقتصاد وسیله است و از وسیله انتظاری جز کارایی بهتر در راه وصول به هدف، نمی‌توان داشت.» در چه قسمتی از «قانون اساسی جمهوری اسلامی ایران» آمده است؟

ب) تأکید «قانون اساسی جمهوری اسلامی ایران» در اصل ۴۸ بر کدام «نکته» است؟

ج) اصول ۴۶، ۴۷ و ۴۹ «قانون اساسی جمهوری اسلامی ایران» مبین کدام یک از محورهای کلی و ویژگی‌های اساسی «نظام اقتصادی کشور» از دید «قانون اساسی» است؟

۱) الف) مقدمه، ب) فعالیت‌های اقتصادی که تخریب غیرقابل جبران «محیط زیست» را به دنبال دارد، ممنوع است. ج) اقتصاد مردمی و رد سلطه‌ی بیگانگان

۲) الف) اصل ۵۳، ب) فعالیت‌های اقتصادی که تخریب غیرقابل جبران «محیط زیست» را به دنبال دارد، ممنوع است. ج) حقوق اقتصادی شهروندان

۳) الف) مقدمه، ب) نباید تبعیضی بین مناطق مختلف کشور وجود داشته باشد. ج) حقوق اقتصادی شهروندان

۴) الف) مقدمه، ب) نباید تبعیضی بین مناطق مختلف کشور وجود داشته باشد. ج) اقتصاد مردمی و رد سلطه‌ی بیگانگان

۳۲- در طول چند قرن اخیر، کشور ما از نظر اقتصادی، سیاسی و اجتماعی فراز و نشیب‌های مهمی را پشت سر گذاشته و مسیر دشواری را طی کرده است. زمانی که جوامع اروپایی با پشت سر گذاشتن مراحل اولیه‌ی «انقلاب صنعتی» در مسیر توسعه و پیشرفت‌های سریع قدم برمی‌داشتند:

۱) قدرت‌های استعماری اجازه ندادند ایران از محصولات و نتایج پربار انقلاب صنعتی که دنیا را متحول کرد، منتفع و بهره‌مند گردد.

۲) ایران به دلیل وضعیت خاص اجتماعی - سیاسی خود در مسیری نامناسب قرار گرفت و مدت‌ها از توسعه و تحول باز ماند.

۳) ایران به سبب تفاوت‌های فرهنگی - اجتماعی و همچنین بروز جنگ‌های قومی و قبیله‌ای و دخالت‌های ناروای قدرت‌های استعماری قادر به جذب و پذیرش آثار و نتایج انقلاب صنعتی نشد.

۴) کشور ما نیز هم‌زمان با پشت سر گذاشتن مراحل اولیه‌ی انقلاب صنعتی توسط جوامع اروپایی، به دلیل شرایط خاص اجتماعی - سیاسی خود در این مسیر قرار گرفت و توسعه و تحول را هر چند ناقص تجربه کرد.

۳۳- به ترتیب، ویژگی بارز دولت‌های «صفویه، قاجاریه و پهلوی» کدام است؟

۱) نداشتن تصور درست حاکمان از موقعیت جهان و وظایف خطیر تاریخی خود - بی‌کفایتی و عیاشی حکام - جدا شدن اقتصاد ایران از ابعاد هویتی، فرهنگی، اجتماعی، تاریخی و دینی خود

۲) بی‌کفایتی و عیاشی حکام - جدا شدن اقتصاد ایران از ابعاد هویتی، فرهنگی، اجتماعی، تاریخی و دینی خود - نداشتن تصور درست حاکمان از موقعیت جهان و وظایف خطیر تاریخی خود

۳) جدا شدن اقتصاد ایران از ابعاد هویتی، فرهنگی، اجتماعی، تاریخی و دینی خود - بی‌کفایتی و عیاشی حکام - ایجاد توسعه‌ی ظاهری و نمایشی

۴) ایجاد توسعه‌ی ظاهری و نمایشی - جدا شدن اقتصاد ایران از ابعاد هویتی، فرهنگی، اجتماعی، تاریخی و دینی خود - نداشتن تصور درست حاکمان از موقعیت جهان و وظایف خطیر تاریخی خود

۳۴- کدام یک از گزینه‌های زیر در اصل چهارم و سوم قانون اساسی مطرح نشده است؟

۱) تأمین نیازهای اساسی برای همه ۲) مالیه‌ی دولت

۳) رعایت آزادی انتخاب شغل ۴) جلوگیری از سلطه‌ی اقتصادی بیگانه بر اقتصاد کشور

۳۵- در رابطه با موضوع اشاره شده در هر اصل قانون اساسی، کدام گزینه درست است؟

۱) محدوده‌ی فعالیت بخش‌های اقتصادی: اصل ۴۶ قانون اساسی ۲) منابع مالی حکومت برای ایفای وظایف: اصل ۴۵ قانون اساسی

۳) اقتصاد مردمی و رد سلطه‌ی بیگانگان: اصل ۴۵ قانون اساسی ۴) توسعه‌ی پایدار و عدالت بین نسلی: اصل ۵۱ قانون اساسی



۳۶- برای تداوم پیشرفت اقتصادی، علاوه بر ... به عنوان عنصر اساسی پیشرفت، ... و ... در برابر فشارها و تکانه‌های مختلف الزامی است.

(۱) ارتقای توان تولید - مقاومت‌سازی اقتصاد - آسیب‌ناپذیری آن
(۲) ارتقای توان تولید - پایداری اقتصادی - ضد شکنندگی

(۳) ثبات اقتصادی - استحکام اقتصادی - ضد شکنندگی
(۴) ثبات اقتصادی - پایداری اقتصادی - آسیب‌ناپذیری آن

۳۷- به ترتیب، تأیید و تصویب برنامه‌ها، اجرای قوانین و برنامه‌ها و پیشگیری و برخورد با مفاسد از وظایف کدام قوا است؟

(۱) مقام معظم رهبری - قوه‌ی مجریه - قوه‌ی قضاییه
(۲) قوه‌ی مجریه - قوه‌ی قضاییه - قوه‌ی مقننه

(۳) قوه‌ی مقننه - قوه‌ی مجریه - قوه‌ی قضاییه
(۴) مقام معظم رهبری - قوه‌ی مجریه - قوه‌ی مقننه

۳۸- کدام گزینه درباره‌ی اقتصاد مقاومتی صحیح است؟

(۱) تضمین‌کننده‌ی عزت و پیشرفت کشور در کوتاه‌مدت
(۲) رفع‌کننده‌ی مشکلات جاری در بلندمدت

(۳) پیشرفته، متکی بر قابلیت‌ها و ظرفیت‌های داخلی دانش‌بنیان
(۴) آسیب‌پذیر در برابر تهدیدات و تکانه‌های داخلی و بیرونی

۳۹- بحث از اقتصاد مقاومتی از سوی چه کسانی مطرح و سیاست‌های کلی آن تحت چه عنوانی پذیرفته شد؟

(۱) مسئولان و نخبگان کشور - ریل‌گذاری اقتصادی
(۲) کارشناسان، نخبگان و مسئولان کشور - یک سند ملی

(۳) کارشناسان، نخبگان و مقام معظم رهبری - یک سند ملی
(۴) نخبگان و مقام معظم رهبری - ریل‌گذاری اقتصادی

۴۰- در کدام گزینه، عبارت مطرح‌شده با تعریف روبه‌روی آن هماهنگی ندارد؟

(۱) راهبرد سال: در ابتدای هر سال با توجه به مهم‌ترین و اصلی‌ترین مسائل کشور پیشنهاد می‌شود.

(۲) دهه‌ی سوم انقلاب: بازنگری نقش اقتصادی دولت

(۳) جهاد اقتصادی: در اقتصاد به طور جهادی (تلاش خالصانه‌ی بیشتر و بهتر) عمل کنیم.

(۴) توان تحریم‌شکنی: هر چه منابع درآمدی کشور گوناگون‌تر باشد، مقاومت و پیشرفت کشور بیشتر تضمین می‌شود.



علوم و فنون ادبی (۱)

۴۱- در کدام گزینه نوع سجع متفاوت است؟

- (۱) هر چه زود برآید دیر نپاید.
 (۲) هر که را دشمن پیش است اگر نکشد دشمن خویش است.
 (۳) علم از بهر دین پروردن است نه از بهر دنیا خوردن.
 (۴) به نانهاده دست نرسد و نهاده هرکجا هست برسد.

۴۲- نوع سجع عبارات زیر به ترتیب در کدام گزینه آمده است؟

- چه آفت است که موجب چندین مخالفت است.
 - ارکان دولت بیسندیدند و برادران به جان برنجیدند.
 - رعیت از مکاید ایشان مرعوب و لشکر سلطان مغلوب.
 - گوهر استاد شریف است و طبع او چون آسمان، کریم.
 (۱) متوازی - متوازن - متوازی - مطرف
 (۲) مطرف - مطرف - متوازی - متوازن
 (۳) متوازی - متوازی - مطرف - مطرف
 (۴) مطرف - متوازی - مطرف - متوازن

۴۳- در کدام یک از ابیات زیر «سجع» به کار رفته است؟

- (۱) آب حیات او ببین، هیچ مترس از اجل / در دو در رضای او هیچ ملرز از قضا
 (۲) سجده کنی به پیش او، عزت مسجدت دهد / ای که تو خوار گشته‌ای زیر قدم چو بوریا
 (۳) بیار زان می گلرنگ مشکبو جامی / شرار رشک و حسد در دل گلاب انداز
 (۴) اگر چه مست و خرابم تو نیز لطفی کن / نظر بر این دل سرگشته‌ی خراب انداز

۴۴- در بیت کدام گزینه «سجع» دیده نمی‌شود؟

- (۱) بیا تا گل برافشانیم و می در ساغر اندازیم / فلک را سقف بشکافیم و طرحی نو دراندازیم
 (۲) صبا خاک وجود ما بدان عالیجناب انداز / بود کان شاه خوبان را نظر بر منظر اندازیم
 (۳) پشمینه پوش تندخو از عشق نشینده است بو / از مستی‌اش رمزی بگو تا ترک هشیاری کند
 (۴) مرا به رندی و عشق آن فصول عیب کند / که اعتراض بر اسرار علم غیب کند

۴۵- در کدام گزینه آرایه‌ی «ترصیع» دیده می‌شود؟

- (۱) ای نوبهار! سرو نبیند همی تذرو / ای آفتاب! نور نیابد همی سها
 (۲) خداوندی که رایش گوهر اقبال را شد کان / عدوبندی که راهش پیکر آمال را شد جان
 (۳) ز دست چنگ‌نوازت شدم چو نالان عود / ز زلف مشک‌فشانت شدم چو سوزان عود
 (۴) پای هر آزاده‌ای در ساحت گلشن نهد / دست هر دل‌داده‌ای در دامن دلبر نهد

۴۶- در کدام یک از ابیات زیر آرایه‌ی «موازنه» وجود دارد؟

- (۱) دل بسته‌ی هواست گزیند ره هوا / تن بنده‌ی دل آمد و با دل همی‌رود
 (۲) ساقیا بر خیز و در ده جام را / خاک بر سر کن غم ایام را
 (۳) نشاط من از عیش کم‌تر نشد / امید من از عمر کوتاه نبود
 (۴) به خطا خاطرت کزی نگرفت / از جفا خاطرت غبار نداشت

۴۷- ترتیب ابیات براساس آرایه‌های «تشبیه - ترصیع - تکرار» کدام است؟

- (الف) حافظ هر آنکه عشق نورزید و وصل خواست / احرام طوف کعبه‌ی دل بی وضو ببست
 (ب) روز نبود که به وصف تو سخن سر نکنم / شب نباشد که ثنای تو مکرر نکنم
 (ج) ما چو نایبیم و نوا در ما ز توست / ما چو کوهیم و صدا در ما ز توست
 (۱) الف - ج - ب
 (۲) ب - ج - الف
 (۳) الف - ب - ج
 (۴) ب - الف - ج

۴۸- در کدام بیت هر دو آرایه‌ی «موازنه» و «تشخیص» دیده می‌شود؟

- (۱) گفتا چی است این ای فلان، گفتم که خون عاشقان / جوشیده و صافی چو جان بر آتش عشق و ولا
 (۲) بخشش تو برون شده ز بیان / کوشش تو فزون شده ز مقال
 (۳) خمار وصل و خرسندی، بجوش ای گریه تا گریم / اسیر عشق و بی‌دردی، بیال ای ناله تا نالم
 (۴) ز مشرق سر کوی آفتاب طلعت تو / اگر طلوع کند، طالعم همایون است

۴۹- در همه‌ی گزینه‌ها «تشبیه و واج‌آرایی» دیده می‌شود به جز گزینه‌ی ...

- (۱) دل گرفته‌ی من همچو ابر بارانی / گشایشی مگر از گریه‌ی شبانه گرفت
 (۲) تن ندادیم به آغوش زلیخای هوس / راضی از سلسله‌ی زلف به زنجیر شدیم
 (۳) می‌ترسم از خرابی ایمان که می‌برد / محراب ابروی تو حضور نماز من
 (۴) یک عمر پریشانی دل‌بسته به مویی است / تنها سر مویی ز سر موی تو دورم

۵۰- در کدام گزینه تکرار کسره‌ی اضافه بیشتر است؟

- (۱) این طرف در افق خونین شکسته، انسان ایستاده است روح نیمه‌اش در انتظار درد می‌کشد ...
 (۲) به فروتنی از عمق خواب‌های پریشان خاکساری خویش، انسانیت را سروده‌ام ...
 (۳) گر بدین‌سان زیست باید پست / من چه بی‌شرمم اگر فانوس عمرم را به رسوایی نیاویزم ...
 (۴) اما صدایش با صدای عشق‌های دور از کف رفته می‌مانست ... او را دیده بودم من ...



تاریخ (۱) ایران و جهان باستان

۵۱- در عصر باستان اساس زندگی اقتصادی ایرانیان چه بود و تا حدود ۵۰ سال پیش، آب مصرفی بسیاری از روستاها و شهرها در کدام نواحی ایران از طریق قنات تأمین می‌شد؟

- (۱) دامداری - جنوبی (۲) دامداری - مرکزی (۳) کشاورزی - شرقی (۴) کشاورزی - غربی

۵۲- آتشکده‌ی ... در ... خاص موبدان بود. آن‌ها پس از ... اقدامات خود را برای نابودی مانی و مانویان تشدید کردند.

- (۱) آذرفرنبغ - فارس - شاپور (۲) آذرگشنسب - آذربایجان - شاپور
(۳) آذرفرنبغ - آذربایجان - اردشیر دوم (۴) آذرگشنسب - فارس - اردشیر دوم

۵۳- کدام عبارت در بررسی وضعیت زبان ایلامی نادرست است؟

- (۱) زبان رسمی و نوشتاری حکومت و تمدن ایلام بود و مردمان فلات مرکزی ایران به آن سخن می‌گفتند.
(۲) تقریباً تمامی هزاران لوح گلی کشف شده از تخت جمشید، به خط و زبان ایلامی است.
(۳) پس از ورود آریاییان به عنوان زبان دوم نوشتاری در دوران هخامنشی مورد استفاده قرار می‌گرفت.
(۴) درباره‌ی زبان ساکنان اولیه‌ی ایران به‌جز ایلامیان، اطلاعات مکتوبی وجود ندارد.

۵۴- به نظر برخی از زبان‌شناسان، کدام منظومه‌های داستانی ابتدا به زبان پارسی سروده شده است؟

- (۱) هزار افسان - ویس و رامین (۲) درخت آسوریک - یادگار زریران
(۳) هزار افسان - یادگار زریران (۴) درخت آسوریک - هزار افسان

۵۵- در ... دوره‌ی اشکانیان، دین زرتشتی نفوذ و گسترش چشمگیری یافت و یکی از پادشاهان اشکانی به نام ... دستور داد متون پراکنده‌ی اوستا گردآوری شود و برخی از پادشاهان اشکانی به تقلید از یونانیان، معابدی را برای ... ساختند.

- (۱) اواسط - بلاش یکم - آناهیتا (۲) اواخر - مهرداد یکم - میترا
(۳) اواسط - مهرداد یکم - آناهیتا (۴) اواخر - بلاش یکم - میترا

۵۶- چند عبارت زیر، در ارتباط با تعالیم زرتشت و اوستا صحیح نیست؟

- (الف) اساس تعالیم زرتشت بر یگانگی و پرستش اهوره‌مزدا قرار دارد.
(ب) طبق تعالیم زرتشت، نیکان به جرگه‌ی یاران اهوره‌مزدا خواهند پیوست و بدان به برزخ افکنده و همنشین اهریمن خواهند شد.
(ج) یکی از پادشاهان اشکانی به نام بلاش یکم نسخه‌ای از اوستا را که در زمان هخامنشیان بر پوست گاو نوشته شده بود، سوزاند.
(د) زرتشت، قربانی کردن و کشتار حیوانات را برای به دست آوردن رحمت الهی تشویق می‌کرد.
(ه) اخبار پراکنده‌ای که درباره‌ی زندگانی و سرنوشت زرتشت در کتاب اوستا به دست آمده است، اغلب جنبه‌ی افسانه‌ای دارد تا تاریخی.

- (۱) دو (۲) پنج (۳) سه (۴) یک

۵۷- حکومت هخامنشی چگونه به رونق اقتصادی و توسعه‌ی صنعت کمک شایانی کرد و تصویر زیر متعلق به چه دوره‌ای است؟



- (۱) با توسعه‌ی شهرنشینی و رونق نسبی تولیدات صنعتی و کارگاهی - اشکانی
(۲) با یکپارچه ساختن سرزمین‌های ثروتمند و متمدن - اشکانی
(۳) با یکپارچه ساختن سرزمین‌های ثروتمند و متمدن - ساسانی
(۴) با توسعه‌ی شهرنشینی و رونق نسبی تولیدات صنعتی و کارگاهی - ساسانی

۵۸- در زمان فرمانروایی ... مبادلات فرهنگی با هند و روم گسترش یافت و یکی از برجسته‌ترین مراکز علمی جهان باستان در عصر ... در شهر جندی‌شاپور پدید آمد.

- (۱) خسرو انوشیروان - اشکانی (۲) خسرو پرویز - اشکانی
(۳) خسرو پرویز - ساسانی (۴) خسرو انوشیروان - ساسانی

۵۹- در زمان کدام پادشاه هخامنشی راه‌های دریایی جدید کشف شد و توسعه‌ی بنادر و ساخت کشتی‌هایی با ظرفیت حمل چند صد تن کالا مربوط به دوران فرمانروایی کدام حکومت است؟

- (۱) داریوش - اشکانیان (۲) کوروش - ساسانیان
(۳) داریوش - هخامنشیان (۴) کوروش - هخامنشیان

۶۰- کدام گزینه بیانگر اوضاع تجارت در دوره‌ی شهریاری هخامنشیان نیست؟

- (۱) برقراری روابط بازرگانی با سرزمین‌های دور به دنبال پیدا شدن نشانه‌هایی در مرکز اروپا و سیلان در جنوب آسیا
(۲) بنادر خلیج فارس و نیز بنادر واقع در سواحل شرقی دریای مدیترانه، از مراکز اصلی تجارت دریایی محسوب می‌شدند.
(۳) تجارت محدود و منحصر به اشیای تجملی و گران‌قیمت نبود، بلکه شامل مواد اولیه مانند فلزات و چوب ... نیز بود.
(۴) درآمد هنگفتی از حقوق گمرکی، عوارض حمل و نقل و راهداری نصیب حکومت هخامنشی می‌شد.



جغرافیای ایران

۶۱- * صنعت ... بعد از نفت و گاز، بزرگ‌ترین بخش صنعتی کشور به شمار می‌رود. در سند چشم‌انداز به صنعت ... توجه خاصی شده است.

- (۱) پتروشیمی - خودروسازی
(۲) خودروسازی - گردشگری
(۳) خودروسازی - پتروشیمی
(۴) پتروشیمی - گردشگری

۶۲- شاغلان بخش‌های مختلف اقتصادی در ایران به ترتیب از بیش‌ترین به کم‌ترین در کدام بخش‌ها مشغول فعالیت هستند و چه عاملی در کشورمان موقعیت مساعدی را برای تولید انواع محصولات زراعی فراهم آورده است؟

- (۱) صنعت، خدمات و کشاورزی - منابع آبی فراوان
(۲) صنعت، کشاورزی و خدمات - تنوع وضعیت آب و هوایی
(۳) خدمات، صنعت و کشاورزی - تنوع وضعیت آب و هوایی
(۴) خدمات، کشاورزی و صنعت - منابع آبی فراوان

۶۳- بسیاری از سکونتگاه‌های اولیه در کجا به‌وجود آمده است و چه عاملی زمینه‌ساز ایجاد شهرهای اولیه در سکونتگاه‌های روستایی شد؟

- (۱) در کنار زمین‌های حاصلخیز - توان‌های اقتصادی ایران
(۲) در کنار رودها - تنوع اقلیمی و وضع جغرافیایی
(۳) در کنار رودها - افزایش جمعیت در سکونتگاه‌های روستایی
(۴) در کنار زمین‌های حاصلخیز - تنوع وضعیت آب و هوایی

۶۴- * در کدام گزینه اثر افزایش جمعیت در شکل سکونتگاه‌ها به درستی ذکر شده است و شهرها به چه دلیل مورد توجه مهاجران است؟

- (۱) افزایش جمعیت شهرها و افزایش تعداد نقاط شهری - فرهنگ زندگی شهری
(۲) افزایش جمعیت شهرها و افزایش تعداد نقاط شهری - امکانات و تسهیلات
(۳) افزایش جمعیت روستا و تبدیل روستاها به نقاط شهری - فرهنگ زندگی شهری
(۴) افزایش جمعیت روستا و تبدیل روستاها به نقاط شهری - امکانات و تسهیلات

۶۵- کدام عامل برای گردشگری علمی و طبیعت‌گردی ایران بسیار مناسب است و چه عواملی باعث تنوع اقلیمی و چشم‌اندازهای طبیعی شده است؟

- (۱) تنوع زیستی و پیکربندی طبیعی - موقعیت ریاضی و گستردگی ایران در طول جغرافیایی
(۲) برخورداری از موقعیت دریایی و خشکی - وجود زیست‌بوم‌های گوناگون گیاهی و جانوری
(۳) تنوع زیستی ایران با وجود زیست‌بوم‌های گوناگون گیاهی و جانوری - موقعیت ریاضی و گستردگی ایران در عرض جغرافیایی
(۴) برخورداری از موقعیت دریایی و خشکی - موقعیت ریاضی و گستردگی ایران در عرض جغرافیایی

۶۶- نقش سکونتگاه‌ها بر چه اساسی تعیین می‌شود و شهرهای «اراک، قم، سرعین، پیرانشهر» به ترتیب دارای کدام نقش هستند؟

- (۱) عرض جغرافیایی - گردشگری، زیارتگاهی، صنعتی، نظامی
(۲) وضع جغرافیایی - صنعتی، زیارتگاهی، گردشگری، نظامی
(۳) عرض جغرافیایی - صنعتی، زیارتگاهی، دانشگاهی، نظامی
(۴) وضع جغرافیایی - دانشگاهی، زیارتگاهی، صنعتی، نظامی

۶۷- امروزه با توجه به مشکل کاهش منابع آبی کشور، توصیه می‌شود محور توسعه‌ی کشاورزی از ... به توسعه‌ی ... با روش‌های مدرن آبیاری تغییر یابد و اختلاف شدید ... روزانه و سالانه در نواحی مختلف ایران، سبب ایجاد تنوع فراوان در تولیدات باغی شده است.

- (۱) باغداری - زراعت - بارش
(۲) زراعت - باغداری - بارش
(۳) باغداری - زراعت - درجه‌ی حرارت
(۴) زراعت - باغداری - درجه‌ی حرارت

۶۸- شهرها با توجه به چه عواملی شکل‌های متفاوت دارند و چه عاملی باعث می‌گردد تا برخی از شهرها شکل ترکیبی داشته باشند؟

- (۱) چگونگی پیدایش و دسترسی به منابع مختلف - گسترش در دوره‌های مختلف
(۲) چگونگی پیدایش و کارکردهای مختلف خود - گسترش در دوره‌های مختلف
(۳) گسترش در دوره‌های مختلف و کارکردهای مختلف خود - چگونگی پیدایش
(۴) گسترش در دوره‌های مختلف و دسترسی به منابع مختلف - چگونگی پیدایش

۶۹- * فعالیت اغلب ... به زمین وابسته است. ... به‌طور مستقیم از منابع طبیعی استفاده می‌کنند و ملاک تبدیل هر سکونتگاه روستایی به شهری در ایران به تشخیص ... با در نظر گرفتن شرایطی است.

- (۱) روستاییان - عشایر - وزارت مسکن
(۲) عشایر - روستاییان - وزارت کشور
(۳) روستاییان - عشایر - وزارت کشور
(۴) عشایر - روستاییان - وزارت مسکن

۷۰- محرک اصلی رشد، موفقیت و نوآوری کشورها چیست و صادرات فرش در کشور ما به چه دلیل از اهمیت و شهرت بین‌المللی برخوردار است؟

- (۱) بخش صنعت - به‌کارگیری افراد و وسایل خاص
(۲) تولید محصولات دامی - به‌کارگیری افراد و وسایل خاص
(۳) تولید محصولات دامی - بافت و نقش و نگار خاص
(۴) بخش صنعت - بافت و نقش و نگار خاص



جغرافیای ایران (شاهد «گواه»)

۷۱- بیش‌تر شهرهای ایران در چه ارتفاعی قرار دارند و بزرگ‌ترین شهرهای ایران در گذشته در کدام نواحی شکل گرفته است؟

- (۱) ۱۰۰۰ - ۵۰۰ متری - در مسیر راه‌های کاروان‌رو و بازرگانی
 (۲) ۲۰۰۰ - ۱۰۰۰ متری - در کنار سواحل و رودها
 (۳) ۱۰۰۰ - ۵۰۰ متری - در کنار سواحل و رودها
 (۴) ۲۰۰۰ - ۱۰۰۰ متری - در مسیر راه‌های کاروان‌رو و بازرگانی

۷۲- شهر باستانی بیشاپور که در شمال غربی کازرون قرار دارد در زمان ... از اهمیت ... مهمی در ایران برخوردار بوده است.

- (۱) ساسانیان - ارتباطی
 (۲) ساسانیان - نظامی
 (۳) هخامنشیان - ارتباطی
 (۴) هخامنشیان - نظامی

۷۳- قدیمی‌ترین نوع سکونتگاه که در ایران شناخته شده است سکونتگاه ... است و روستای هیر در ... قرار دارد.

- (۱) عشایری - همدان
 (۲) روستایی - همدان
 (۳) عشایری - قزوین
 (۴) روستایی - قزوین

۷۴- کدام گزینه در ارتباط با ویژگی‌های روستا نادرست است؟

- (۱) عرضه‌ی خدماتی نظیر فروشگاه و حمل و نقل عمومی، در روستاها کمتر و محدودتر است.
 (۲) در زمان کاشت و برداشت محصولات با یکدیگر همکاری می‌کنند.
 (۳) تفاوت بسیاری در ارزش‌ها، آداب، رسوم و شیوه‌ی زندگی مردم وجود دارد.
 (۴) بیش‌تر روستاییان به کشاورزی و دامداری اشتغال دارند.

۷۵- مهاجرت معکوس همان مهاجرت از ...

- (۱) شهرهای کوچک و روستاها به شهرهای بزرگ است.
 (۲) از یک کشور به کشور دیگر است.
 (۳) از شهرهای بزرگ به شهرهای کوچک و روستاها است.
 (۴) از کشورهای بزرگ به کشورهای کوچک است.

۷۶- سازمان جهانی گردشگری (WTO) ایران را از نظر جاذبه‌های طبیعی در رتبه‌ی ... و از نظر جاذبه‌های تاریخی و فرهنگی در رتبه‌ی ... جهانی قرار داده است.

- (۱) پنجم - دهم
 (۲) دهم - پنجم
 (۳) هفتم - پانزدهم
 (۴) پانزدهم - هفتم

۷۷- عواملی موجب گردیده است تا کشورمان در تأمین برخی محصولات زراعی وابسته به واردات باشد. گزینه‌ی ... از جمله‌ی این عوامل

محسوب نمی‌شود.

- (۱) بهره‌وری کم
 (۲) وجود آفات و خسارات طبیعی
 (۳) نوسانات آب و هوایی
 (۴) ثبات در قیمت محصولات

۷۸- کدام محصولات باغی ایران در جهان بی‌همتاست؟

- (۱) انار، پسته، خرمای ایرانی
 (۲) پسته، پرتقال، خرما
 (۳) انگور، خرما، انار
 (۴) انار، توت‌فرنگی، پسته

۷۹- بهره‌گیری از توان‌های محیطی با هدف تأمین معاش و توجه به ابعاد مکانی در برنامه‌ریزی‌ها به چه مسئله‌ای منجر می‌شود؟

- (۱) حفظ محیط زیست از خطر نابودی
 (۲) عدالت اجتماعی و اقتصادی و تعادل منطقه‌ای انواع فعالیت‌ها
 (۳) رشد روزافزون تولیدات کشاورزی
 (۴) بالا رفتن سطح درآمد ملی کشور

۸۰- تأمین نیازهای امروز، بدون کاستن از توانمندی‌های نسل‌های آینده را ... می‌گویند.

- (۱) مدیریت محیط زیست
 (۲) عدالت اجتماعی و اقتصادی
 (۳) توسعه‌ی پایدار
 (۴) توسعه‌ی اقتصادی



جامعه‌شناسی (۱)

۸۱- گسترش ... از طریق گسترش فرهنگ و معانی آن صورت می‌گیرد. هر عاملی که در گسترش فرهنگ و معانی مؤثر باشد، ... راه گسترش هر فرهنگ ... است.

- (۱) نظام اجتماعی - رابطه‌ی جمعیت و جهان اجتماعی را بررسی می‌کند - شناختن آن فرهنگ و اندیشیدن به آن
- (۲) جهان اجتماعی - در بسط هویت جهان اجتماعی اثرگذار است - شناختن، پذیرفتن و عمل کردن به آن
- (۳) نظام اجتماعی - در بسط هویت جهان اجتماعی اثرگذار است - شناختن آن فرهنگ و اندیشیدن به آن
- (۴) جهان اجتماعی - رابطه‌ی جمعیت و جهان اجتماعی را بررسی می‌کند - شناختن، پذیرفتن و عمل کردن به آن

۸۲- کاهش جمعیت یک جهان اجتماعی ... هدف اسلام تأسیس ... است و لازمه‌ی تحقق این هدف ... است.

- (۱) به منزله‌ی گسترش فرهنگ و معانی آن است - جهان اجتماعی توحیدی و گسترش آن - یکپارچگی مسلمانان جهان
- (۲) به منزله‌ی محدود شدن گستره‌ی آن است - نظام اجتماعی بر پایه‌ی عدالت و آزادی - وحدت مسلمانان در مبارزه با ظالمان
- (۳) می‌تواند زمینه‌ساز بسط و تسلط جهان‌های اجتماعی دیگر باشد - جهان اجتماعی توحیدی و گسترش آن - داشتن جمعیت مناسب
- (۴) یک مسئله‌ی هویتی برای جهان اجتماعی است - نظام اجتماعی بر پایه‌ی عدالت و آزادی - حمایت مسلمانان جهان از یکدیگر

۸۳- کدام گزینه در مورد پیامدهای اقتصاد نفتی صحیح نیست؟

- (۱) رفاه اقتصادی در کشور به مدد تولید نفت به وجود می‌آید نه رواج کسب و کار
- (۲) باعث شکل‌گیری تولید ملی ضعیف و شکننده می‌شود که مستقیم و غیرمستقیم وابسته به نفت است.
- (۳) رفاه را در بلندمدت ایجاد می‌کند ولی تحت تأثیر نوسانات زیاد است.
- (۴) سرمایه‌های نفتی اگر به‌درستی استفاده نشود، اقتصادی وابسته که رشد و افول آن به قیمت و درآمد نفتی وابسته است، ایجاد می‌شود.

۸۴- در جهان متجدد به دلیل ... و ... ایثارگری کاهش پیدا می‌کند، به فرزندآوری کم‌تر توجه می‌شود و هم‌چنین در این جوامع برای جبران کاهش جمعیت ... را در دستور کار خود قرار می‌دهند.

- (۱) فردگرایی، مصرف‌گرایی - افزایش باروری
- (۲) فردگرایی، اصالت لذت - پذیرش مهاجران
- (۳) دنیاگرایی، اصالت لذت - افزایش باروری
- (۴) فردگرایی، مصرف‌گرایی - پذیرش مهاجران

۸۵- به‌ترتیب هویت ایرانی قبل از ظهور اسلام و تصویری که تاریخ‌نگاران غربی از هویت فرهنگی جوامع اسلامی ارائه می‌کردند، چگونه بود و نظریه‌پردازان غربی چه چیزی را به عنوان سرنوشت مشترک و حتمی بشریت می‌دانستند؟

- (۱) توحیدی و آمیخته به اساطیر - سکولار و اساطیری - سکولاریزم و دنیوی شدن
- (۲) سکولار و ناسیونالیستی - سکولار و دنیوی - سکولاریزم و لیبرال
- (۳) سکولار و ناسیونالیستی - سکولار و اساطیری - سکولاریزم و لیبرال
- (۴) توحیدی و آمیخته به اساطیر - سکولار و دنیوی - سکولاریزم و دنیوی شدن



۸۶- جهان اجتماعی که دچار... می‌شود حالت فعال و خلاق خود را در گزینش عناصر فرهنگی جوامع دیگر از دست می‌دهد، این جهان

ارتباطش را با فرهنگ و تاریخ خود از دست می‌دهد. ... جوامع ... در برابر جهان ... را غرب‌زدگی می‌نامند.

- (۱) خودباختگی فرهنگی - خودباختگی - غیرغربی - غرب
 (۲) از خودبیگانگی فرهنگی - خودباختگی - غیرغربی - غرب
 (۳) از خودبیگانگی فرهنگی - از خودبیگانگی - غربی - غیرغربی
 (۴) خودباختگی فرهنگی - از خودبیگانگی - غربی - غیرغربی

۸۷- با توجه به آیه‌ی شریفه‌ی «هم‌چون کسانی نباشید که خداوند را فراموش کردند، سپس خداوند نیز آن‌ها را از یاد خودشان برد» کدام

یک از گزینه‌های زیر نادرست است؟

- (۱) تنها جهان اجتماعی توحیدی است که درهای آسمان و زمین را به سوی انسان می‌گشاید و او را با حقیقت خود و جهان هستی آشنا می‌کند.
 (۲) در جهان‌های اساطیری و توحیدی انسان از حقیقت خود و هستی دور می‌ماند و تصویری که در این جهان‌ها از انسان ارائه می‌شود سرایی از حقیقت است و امکان رسیدن به آرامش در این جهان بسیار کم است.
 (۳) جهان اجتماعی مشرکانه‌ی اساطیری و جهان اجتماعی سکولار و دنیوی، آدمی را نه تنها از حقیقت جهان، بلکه از حقیقت خود نیز بیگانه می‌کند.
 (۴) انسانی که به خودآگاهی می‌رسد، خویش و جهان را آیات و نشانه‌های خداوند می‌یابد و همواره انیس و همنشین خداوند است.

۸۸- صحیح یا غلط بودن عبارت‌های زیر را کدام گزینه به‌درستی نشان می‌دهد؟

(الف) روابط جهان‌های اجتماعی گاهی در محدوده‌ی هنجارها و نمادها یا در شیوه‌های زندگی است و گاهی در سطح عقاید، آرمان‌ها و ارزش‌های اجتماعی است.

(ب) اگر جهان اجتماعی با حفظ عقاید، آرمان‌ها و ارزش‌های خود، با جهان اجتماعی دیگر تعامل و داد و ستد داشته باشد و در محدوده‌ی هنجارها و شیوه‌ی زندگی، عناصری را از جهان اجتماعی دیگر بگیرد، زمینه‌ی پیشرفت و گسترش خود را فراهم می‌آورد.
 (ج) جهان اسلام در سده‌های نخستین رویارویی با جهان‌های اجتماعی دیگر، با حفظ هویت فرهنگی خود به تعامل با آن‌ها پرداخت و تمامی عناصر جهان‌های دیگر را کسب کرد.

(د) به دلیل اهمیتی که اسلام برای عقل و عقلانیت قائل است، در مواجهه با فرهنگ یونان و روم، تنها عناصر عقلی این دو فرهنگ را اخذ کرد.

- (۱) ص - غ - غ - ص
 (۲) ص - ص - غ - غ
 (۳) غ - ص - ص - غ
 (۴) ص - ص - غ - ص

۸۹- روزنه‌ی ورود استعمار به جوامع کدام است و ایران اسلامی راه احیای هویت اقتصادی خود را چه می‌داند؟

- (۱) اقتصاد - اجرای قانون اساسی و سیاست‌های اقتصاد مقاومتی
 (۲) فرهنگ - اجرای قانون اساسی و سیاست‌های اقتصاد مقاومتی
 (۳) اقتصاد - رفاه اقتصادی و پیشرفت توأم با عدالت
 (۴) فرهنگ - رفاه اقتصادی و پیشرفت توأم با عدالت

۹۰- فارسی دری از دیرباز به‌عنوان ... زبان رسمی مشترک اقوام مختلفی بود که در سرزمین پهناور ایران زندگی می‌کردند؛ این زبان به‌دلیل

... به‌عنوان زبان فرهنگی دوم جهان اسلام، مرزهای مختلف امپراطوری‌های عثمانی و گورکانی را در نوردید.

- (۱) زبان فرهنگی دربار ایران - نقش مهم ایرانیان در حیات فکری جهان اسلام
 (۲) زبان سیاسی دربار ایران - مشارکت فعال ایرانیان در حیات سیاسی جهان اسلام
 (۳) زبان سیاسی دربار ایران - مشارکت فعال ایرانیان در حیات فکری جهان اسلام
 (۴) زبان فرهنگی دربار ایران - حضور فعال ایرانیان در عرصه‌ی سیاسی جهان اسلام

پاسخ غیر حضوری



دوره‌ی متوسطه‌ی دوم

(پایه‌ی دهم انسانی)

۳۱ فروردین ماه ۹۷

بنیاد علمی آموزشی قلمچی «فام»

دفتر مرکزی: خیابان انقلاب بین صبا و فلسطین بلاک ۹۲۳ - تلفن چهار رقمی ۶۴۶۳-۰۲۱ داخلی ۱۶۵

«تمام داری‌ها و درآمدهای بنیاد علمی آموزشی قلمچی وقف عام است بر گسترش دانش و آموزش»



عربی زبان قرآن (۱)

۱- گزینه‌ی «۳»

(سیرممدعلی مرتضوی، ترجمه)

«من العجیب»: عجیب است، «أَنْ تَتَكَلَّمْ»: که صحبت می‌کنند (در این جا)، «مَعاً»: با هم، «استخدام أصوات معینة»: به‌کارگیری صداهای مشخصی، «مَتَى»: کی، چه‌زمان، «تُكشَفُ»: (فعل مجهول) کشف می‌شوند، «هذه الأسرار»: این رازها

۲- گزینه‌ی «۴»

(سیرممدعلی مرتضوی، ترجمه)

«علی کلِّ مواطن صیانة»: بر هر هم‌وطنی است نگهداری ...، هر هم‌وطنی باید از ... نگهداری کند، «أنایب النِّفْط»: لوله‌های نفت، «حَتَّى لَا نَشاہِدَ»: تا مشاهده نکنیم

۳- گزینه‌ی «۴»

(درویشعلی ابراهیمی، ترجمه)

«یحصد»: درو می‌کنند (در این جا)، «القمح»: گندم، «الصَّیْف»: تابستان، «یشعرون بـ»: احساس ... می‌کنند

ترجمه‌ی درست گزینه‌های دیگر:

گزینه‌ی «۱»: «استخراج نفت در مسجد سلیمان زمان کوتاهی را گرفت.»

گزینه‌ی «۲»: «باور نمی‌کردم که عطر و خمیردندان از نفت ساخته می‌شوند.»

گزینه‌ی «۳»: «دانشجویان پزشکی گیاهانی را بر روی کوه یافتند که دارویی بودند.»

۴- گزینه‌ی «۳»

(مریم آقاییاری، مفهوم)

ترجمه‌ی عبارت سؤال: «دوست هنگام مشکلات بسیار شناخته می‌شود.» که با بیت گزینه‌ی «۳» تناسب معنایی دارد.

تشریح گزینه‌های دیگر:

گزینه‌ی «۲»: «غریب کسی است که دوستی ندارد.»

گزینه‌ی «۴»: «دشمنی (فرد) دانا بهتر از دوستی (شخص) نادان است.»

۵- گزینه‌ی «۳»

(مریم آقاییاری، لغت)

«أَنْف» (بینی) و «لسان» (زبان) و «عین» (چشم) از اجزاء صورت هستند، ولی «رَجُل» به معنی مرد است و با آن‌ها تناسب ندارد.

تشریح گزینه‌های دیگر:

گزینه‌ی «۱»: کره / پنیر / شیر / چای: همگی مربوط به صبحانه‌اند.

گزینه‌ی «۲»: مواد سوختی / گاز / نفت / پلاستیک: همگی مربوط به فرآورده‌های نفتی یا گازی هستند.

گزینه‌ی «۴»: دریا / کوسه‌ماهی / ساحل‌ها / بندرها: همگی مربوط به دریا هستند.

۶- گزینه‌ی «۳»

(درویشعلی ابراهیمی، قواعد)

کلمه‌ی «العالم» مبتدأست و جار و مجرور (کالشجر) خبر آن است.

تشریح گزینه‌های دیگر:

گزینه‌ی «۱»: کلمه‌ی (العالم) مبتدا و کلمه‌ی (خبر) خبر است.

گزینه‌ی «۲»: کلمه‌ی (أفضل) مبتدا و کلمه‌ی (أنفع) خبر است.

گزینه‌ی «۴»: کلمه‌ی (شأن) مبتدا و فعل (یرتفع) خبر است.

۷- گزینه‌ی «۲»

(علی‌اکبر ایمان‌پرور، قواعد)

در این عبارت، «يُتْرَكُونَ» فعل مضارع مجهول و نائب فاعلش ضمیر بارز «واو» است.

(در کشورهای اسلامی کودکان تنها رها نمی‌شوند.)

در سایر گزینه‌ها، همه‌ی فعل‌ها معلوم هستند.

۸- گزینه‌ی «۳»

(علی‌اکبر ایمان‌پرور، قواعد و ترجمه)

در این گزینه «ک» در «أَنْصَحُكَ» و در «أَنْتَک» ضمیر متصل است، نه حرف تشبیه.

نکته: «ک» وقتی به معنای «مثل - مانند» باشد برای تشبیه به‌کار می‌رود و جزو حروف

جرّ است.

۹- گزینه‌ی «۱»

(علی‌اکبر ایمان‌پرور، قواعد)

در این عبارت دو فعل آمده که اولی یعنی فعل «أَخْرَجْنَا» دارای فاعل اسم ظاهر

«أعداء» است و ضمیر «نا» مفعول آن است، ولی فعل دوم (ظلموا) دارای فاعل ضمیر

بارز «واو» است.

تشریح گزینه‌های دیگر:

در گزینه «۲»: فاعل فعل «خَرَجَ» اسم ظاهر «الأعداء» است.

در گزینه «۳»: فاعل فعل معلوم «أَتَفَكَّرُ» ضمیر مستتر «أنا» است.

در گزینه «۴»: فاعل فعل «ذهبت» اسم ظاهر «الطالبات» است.

۱۰- گزینه‌ی «۲»

(درویشعلی ابراهیمی، قواعد و ترجمه)

در گزینه‌ی «۲» حرف «پ» بر سر (بدر = بیدر) به معنای (فی) می‌باشد. (و همانا

خداوند شما را در «بدر» یاری کرد.)

تشریح گزینه‌های دیگر:

گزینه‌ی «۱»: حرف «ل» به معنای (برای) می‌باشد. / گزینه‌ی «۳»: حرف «ل» به

معنای (برای) می‌باشد. / گزینه‌ی «۴»: حرف «علی» به معنای (بر) می‌باشد.



ریاضی و آمار (۱)

۱۱- گزینه‌ی «۳»

(سپار ممبر نژار، معیارهای پراکندگی)

ابتدا میانگین داده‌ها را حساب می‌کنیم:

$$\bar{x} = \frac{۲+۴+۶+۸+۱۰}{۵} = \frac{۳۰}{۵} = ۶$$

سپس انحراف معیار را پیدا می‌کنیم:

$$\sigma = \sqrt{\frac{(۲-۶)^2 + (۴-۶)^2 + (۶-۶)^2 + (۸-۶)^2 + (۱۰-۶)^2}{۵}}$$

$$= \sqrt{\frac{۱۶+۴+۰+۴+۱۶}{۵}} = \sqrt{\frac{۴۰}{۵}} = \sqrt{۸}$$

$$\Rightarrow \begin{cases} \sigma^2 = ۸ & \text{واریانس} \\ \bar{x} = ۶ \end{cases}$$

۱۲- گزینه‌ی «۴»

(سپارضا میرقانی، معیارهای پراکندگی)

واریانس، توان دوم انحراف معیار است و اگر عددی به همی داده‌ها اضافه کنیم تأثیری در انحراف معیار و واریانس ندارد. اما اگر داده‌ها را در عددی ضرب کنیم، انحراف معیار را باید در آن عدد ضرب کنیم.

$$\sigma' = ۲ \times ۳ = ۶ \quad \text{انحراف معیار جدید} \Rightarrow \sigma = ۳$$

$$\sigma'^2 = ۳۶ \quad \text{واریانس جدید}$$

۱۳- گزینه‌ی «۱»

(سپرمهر علی مرتضوی، معیارهای پراکندگی)

۹۹/۹ درصد داده‌ها بین $\bar{x} - ۳\sigma$ و $\bar{x} + ۳\sigma$ قرار دارند، بنابراین ۰/۱ درصد نوجوانان، وزنی بالاتر از $\bar{x} + ۳\sigma$ یا کمتر از $\bar{x} - ۳\sigma$ دارند:

$$\bar{x} + ۳\sigma = ۵۵ + ۳(۱۲) = ۹۱$$

$$\bar{x} - ۳\sigma = ۵۵ - ۳(۱۲) = ۱۹$$

۱۴- گزینه‌ی «۳»

(فرزاد روشنی، نمودارهای یک متغیره)

در متغیرهای اسمی نمودار میله‌ای از نمودار بافت نگاشت (هیستوگرام) بهتر است.

۱۵- گزینه‌ی «۲»

(سپرمهر علی مرتضوی، نمودارهای یک متغیره)

فراوانی ۵۰ مربوط به زاویه‌ی ۱۰۰° در نمودار دایره‌ای است، پس:

$$\frac{۵۰}{b} = \frac{۱۰۰}{۶۰} \Rightarrow b = ۳۰$$

زاویه‌ی مشخص شده در نمودار دایره‌ای برابر است با:

$$۳۶۰ - ۱۰۰ - ۶۰ = ۲۰۰$$

$$\frac{۵۰}{a} = \frac{۱۰۰}{۲۰۰} \Rightarrow a = ۱۰۰$$

$$\Rightarrow a - b = ۱۰۰ - ۳۰ = ۷۰$$

۱۶- گزینه‌ی «۱»

(سپارضا میرقانی، نمودارهای یک متغیره)

$$n = \text{تعداد کل داده‌ها}$$

$$\text{زاویه‌ی مرکزی بر حسب درجه} = \frac{f_i}{n} \times ۳۶۰^\circ$$

$$۲۰ = \text{مجموع فراوانی داده‌ها}$$

$$۱۸۰ = x \times \frac{x}{۲۰} \times ۳۶۰^\circ \Rightarrow x = ۱۰$$

۱۷- گزینه‌ی «۳»

(مهروی ملارمشانی، نمودارهای یک متغیره)

کمترین داده برابر با ۱۱ است. سایر گزینه‌ها الزاماً صحیح نیستند.

۱۸- گزینه‌ی «۴»

(مهروی ملارمشانی، نمودارهای چند متغیره)

اگر جای متغیرهای قد و نمره‌ی عربی را جابه‌جا کنیم در این صورت چون نمره‌ی درس عربی برای شخص D کمتر از بقیه است پس در نتیجه مساحت دایره‌ی آن کمتر خواهد شد.

۱۹- گزینه‌ی «۴»

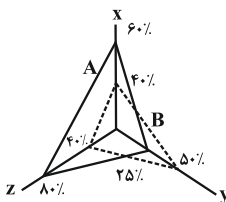
(سپارضا میرقانی، نمودارهای چند متغیره)

نمودار راداری برای نمایش متغیرها از نمودار دایره‌ای استفاده می‌کند که در آن سه متغیر کمی یا بیش‌تر روی محورهای نشان داده می‌شوند که نقطه‌ی شروع همه‌ی آن یکسان است.

۲۰- گزینه‌ی «۱»

(ایمان پینی فروشان، نمودارهای چند متغیره)

چون تعداد متغیرها ۳ تا می‌باشد پس نمودار دارای سه شعاع می‌باشد و با توجه به جدول، مقدار هر متغیر مشاهده را بر بیشینه آن تقسیم می‌کنیم تا مقدار شعاع مربوط به هر مشاهده روی هر محور به دست آید.





اقتصاد

۲۱- گزینه‌ی «۴»

(سیرمهر علوی مقرر، اقتصاد ایران)

به ترتیب موارد گزینه‌ی «۴» پاسخ درست و مناسب موارد صورت سؤال است.

۲۲- گزینه‌ی «۳»

(سیرمهر علوی مقرر، اقتصاد ایران)

الف) دولتی شدن بیش از حد اقتصاد ایران در «پایان حکومت پهلوی» و با «افزایش درآمدهای نفتی» شکل گرفت.

ب) محاصره‌ی اقتصادی ایران با هدف «تضعیف توان اقتصادی و دفاعی» کشور انجام گرفت.

ج) جریان توسعه و رشد اقتصاد کشور باید به گونه‌ای سازماندهی شود که به «محیط زیست» آسیبی وارد نشود.

۲۳- گزینه‌ی «۲»

(سارا شریفی، اقتصاد ایران)

به ترتیب هریک از موارد ذکر شده در صورت سؤال به اصول ۴۴، ۴۵ و ۵۱ تا ۵۵ قانون اساسی اشاره دارند.

۲۴- گزینه‌ی «۳»

(سارا شریفی، اقتصاد ایران)

الف) صحیح است.

ب) قانون اساسی جمهوری اسلامی ایران در سال ۱۳۵۸ تدوین شده است.

ج) صحیح است.

د) صحیح است.

ه) مباحث مرتبط با اقتصاد در قانون اساسی تنها به اصول چهل و سوم تا پنجاه و پنجم محدود نمی‌شود و اصول دیگری هم به‌طور مستقیم یا غیرمستقیم با مسائل و امور اقتصادی مرتبط است.

۲۵- گزینه‌ی «۱»

(سارا شریفی، اقتصاد ایران)

در سال‌های اول بعد از پیروزی انقلاب به دو دلیل نقش دولت و حضور آن در اقتصاد افزایش یافت:

۱- به دنبال اعلام قانون ملی شدن بعضی از فعالیت‌های اقتصادی، اداره‌ی تعداد قابل توجهی از کارخانه‌ها و مؤسسات تولیدی - تجاری به دولت سپرده شد.

۲- سهم دولت در اقتصاد در وضعیت جنگی در همه‌ی کشورها افزایش می‌یابد. از این‌رو در اقتصاد ایران هم با آغاز جنگ تحمیلی علیه ایران، وضعیتی پدید آمد که دولت به ناچار و ناخواسته در عرصه‌ی اقتصادی کشور حضور یافت.

۲۶- گزینه‌ی «۴»

(سیره‌تارا علوی آزر، اقتصاد ایران در مسیر پیشرفت)

با توجه به مؤلفه‌ی مدیریت مصرف و بهره‌وری حداکثری به‌عنوان یکی از مؤلفه‌های اقتصاد مقاومتی، اقتصاد مقاوم هم‌چنان که در مقابل موانع بیرونی استحکام لازم را حفظ می‌کند، باید به برطرف کردن ضعف‌های درونی نیز بپردازد. قدرت تولیدی و پیشرفت اقتصادی با چگونگی استفاده از منابع و میزان بهره‌وری ارتباط زیادی دارد. بهینه بودن نوع، میزان و زمان مصرف و هم‌چنین بهره‌برداری حداکثری از منابع به تولید کمک شایانی می‌نماید.

۲۷- گزینه‌ی «۳»

(زهره مومنی، اقتصاد ایران در مسیر پیشرفت)

در دهه‌ی دوم عمر انقلاب اسلامی، عزم کشور بر حل مشکلات اقتصادی برجای مانده از زمان پهلوی و بازسازی خرابی‌های ناشی از جنگ بود.

دهه‌ی چهارم انقلاب اسلامی دهه‌ی «عدالت و پیشرفت» نام‌گذاری گردید.

۲۸- گزینه‌ی «۲»

(زهره مومنی، اقتصاد ایران در مسیر پیشرفت)

رشد اقتصادی بیش از این‌که به رشد سرمایه‌های فیزیکی وابسته باشد، بهتر است به رشد توانمندی (سرمایه‌ی انسانی) و ارتقای قدرت تولیدی عموم مردم استوار گردد تا پیشرفت اقتصادی مطمئن‌تری را در پی داشته باشد.

۲۹- گزینه‌ی «۴»

(زهره مومنی، اقتصاد ایران در مسیر پیشرفت)

تأکید بر اصلاح نظام مالیاتی، افزایش صادرات غیرنفتی و حرکت به سمت فروش فرآورده‌های نفتی به جای نفت خام به تنوع منابع درآمدی کشور کمک می‌کند.

۳۰- گزینه‌ی «۳»

(سارا شریفی، اقتصاد ایران در مسیر پیشرفت)

در سند چشم‌انداز ۲۰ ساله‌ی جمهوری اسلامی ایران، وضعیت اقتصادی در افق سال ۱۴۰۴ هـ. ش. توصیف و مشخص شده است. به عبارت دیگر در سال ۱۴۰۴ هـ. ش. اقتصاد کشور در وضعیت و موقعیت (مقصد) تعیین شده بدین صورت خواهد بود:

«کشوری با جایگاه اول اقتصادی در سطح منطقه‌ی آسیای جنوب غربی، ارتقای نسبی سطح درآمد سرانه، رسیدن به اشتغال کامل و...»



اقتصاد (شاهد «گواه»)

۳۱- گزینه‌ی «۳»

(سؤال ۳۳۳ کتاب جامع، اقتصاد ایران)

الف) این مطلب که «در تحکیم بنیان‌های اقتصادی، اصل، رفع نیازهای انسان در جریان رشد و تکامل اوست، نه هم‌چون دیگر نظام‌های اقتصادی تمرکز و تکاثر ثروت و سودجویی، زیرا که در مکاتب مادی، اقتصاد خود هدف است و بدین جهت در مراحل رشد، اقتصاد عامل تخریب، فساد و تباهی می‌شود ولی در اسلام، اقتصاد وسیله است و از وسیله انتظاری جز کارایی بهتر در راه وصول به هدف، نمی‌توان داشت». در مقدمه‌ی «قانون اساسی جمهوری اسلامی ایران» آمده است.

ب) مطابق اصل چهارم و هشتم: «در بهره‌برداری از منابع طبیعی و استفاده از درآمدهای ملی در سطح استان‌ها و توزیع فعالیت‌های اقتصادی میان استان‌ها و مناطق مختلف کشور، باید تبعیض در کار نباشد».

ج) در اصول ۴۶، ۴۷ و ۴۹ قانون اساسی، بر حقوق اقتصادی شهروندان تأکید شده است.

۳۲- گزینه‌ی «۲»

(سؤال ۳۳۷ کتاب جامع، اقتصاد ایران)

در طول چند قرن اخیر، کشور ما از نظر اقتصادی، سیاسی و اجتماعی فراز و نشیب‌های مهمی را پشت سر گذاشته و مسیر دشواری را طی کرده است. زمانی که جوامع اروپایی با پشت سر گذاشتن مراحل اولیه‌ی انقلاب صنعتی در مسیر توسعه و پیشرفت‌های سریع قدم برمی‌داشتند، ایران به‌دلیل وضعیت خاص اجتماعی - سیاسی خود در مسیری نامناسب قرار گرفت و مدت‌ها از توسعه و تحول بازماند.

۳۳- گزینه‌ی «۱»

(سؤال ۳۳۶ کتاب جامع، اقتصاد ایران)

در دوران صفویه، ایران از کانون تحولات به دور بود و حاکمان وقت تصوّر درستی از موقعیت جهان و وظایف خطیر تاریخی خود نداشتند؛ بدین جهت نتوانستند با انتخاب روش درست و بهره‌برداری از اوضاع خاص آن زمان، جریان توسعه و نوسازی را آغاز کنند.

در دوران قاجار، بی‌کفایتی و عیاشی حکام به اوج رسید و ایران فرصت طلایی خود را برای جبران عقب‌ماندگی نسبت به اروپا از دست داد.

ویژگی عمده‌ی دوره‌ی پهلوی، جدا شدن اقتصاد ایران از ابعاد هویتی، فرهنگی، اجتماعی، تاریخی و دینی خود بود.

۳۴- گزینه‌ی «۲»

(سؤال ۳۴۳ کتاب جامع، اقتصاد ایران)

عبارت گزینه‌ی «۲» از موارد مطرح در اصل چهارم و سوم قانون اساسی نمی‌باشد.

۳۵- گزینه‌ی «۲»

(سؤال ۳۴۴ کتاب جامع، اقتصاد ایران)

اقتصاد مردمی و رد سلطه بیگانگان: اصل ۴۳

محدوده فعالیت بخش‌های اقتصادی: اصل ۴۴

منابع مالی حکومت برای ایفای وظایف: اصل ۴۵

حقوق اقتصادی شهروندان: اصول ۴۶، ۴۷ و ۴۹

عدالت منطقه‌ای و استانی: اصل ۴۸

توسعه پایدار و عدالت بین نسلی: اصل ۵۰

۳۶- گزینه‌ی «۱»

(سؤال ۳۵۰ کتاب جامع، اقتصاد ایران در مسیر پیشرفت)

برای تداوم پیشرفت اقتصادی، علاوه بر «ارتقای توان تولید» به‌عنوان عنصر اساسی پیشرفت، «مقاوم‌سازی اقتصاد» و «آسیب‌ناپذیری» آن از فشارها و تکان‌های مختلف الزامی است.

۳۷- گزینه‌ی «۳»

(سؤال ۳۴۹ کتاب جامع، اقتصاد ایران در مسیر پیشرفت)

تأیید و تصویب برنامه‌ها و ریل‌گذاری قانونی: قوه‌ی مقننه

برقراری نظم، سلامت، پیشگیری و برخورد با مفاسد و اقدامات غیرقانونی: قوه‌ی قضاییه

اجرای قوانین و برنامه‌ها: قوه‌ی مجریه (دولت)

۳۸- گزینه‌ی «۳»

(سؤال ۳۵۱ کتاب جامع، اقتصاد ایران در مسیر پیشرفت)

اقتصاد مقاومتی، اقتصادی است پیشرفته، مردمی و دانش‌بنیان که در برابر تهدیدات و تکان‌های داخلی و بیرونی آسیب‌ناپذیر است و با اتکا به قابلیت‌ها و ظرفیت‌های داخلی و استفاده از فرصت‌های بیرونی، نیازها و مشکلات اقتصادی را رفع می‌کند و با تحریم‌ها و تهدیدات متوقف نمی‌شود. اقتصاد مقاومتی، تضمین‌کننده‌ی عزت و پیشرفت کشور در «بلندمدت» و رفع‌کننده مشکلات جاری در «کوتاه‌مدت» است.

۳۹- گزینه‌ی «۳»

(سؤال ۳۵۶ کتاب جامع، اقتصاد ایران در مسیر پیشرفت)

بحث از اقتصاد مقاومتی از سوی کارشناسان، نخبگان و مقام معظم رهبری مطرح و سیاست‌های کلی آن به‌عنوان «یک سند ملی» پذیرفته شده است.

۴۰- گزینه‌ی «۴»

(سؤال ۳۵۷ کتاب جامع، اقتصاد ایران در مسیر پیشرفت)

(هر چه منابع درآمدی کشور گوناگون‌تر باشد، مقاومت و در پی آن پیشرفت کشور بیشتر تضمین می‌شود.) = کاهش اتکای بودجه و تراز تجاری به درآمدهای نفتی



علوم و فنون ادبی

۴۱- گزینه‌ی «۳»

(میثم هسین قانی، سجع و انواع آن)

در گزینه‌ی «۳»، «پروردن» و «خوردن» سجع مطرف دارند.

تشریح گزینه‌های دیگر:

در گزینه‌های دیگر سجع‌ها همه متوازی هستند که به ترتیب عبارت‌اند از: «برآید» و «نپاید» / «پیش» و «خویش» / «نرسد» و «برسد»

۴۲- گزینه‌ی «۲»

(اعظم نوری‌نیا، سجع و انواع آن)

آفت و مخافت: سجع مطرف / بیسندیدند و برنجیدند: سجع مطرف / مرعوب و مغلوب: سجع متوازی / شریف و کریم: سجع متوازن.

۴۳- گزینه‌ی «۱»

(سپهر حسن‌فان‌پور، سجع و انواع آن)

«بین» و «اجل» در بیت گزینه‌ی «۱» سجع متوازن دارند.

۴۴- گزینه‌ی «۲»

(اعظم نوری‌نیا، سجع و انواع آن)

واژگان پدیدآورنده‌ی سجع در سایر گزینه‌ها:

گزینه‌ی «۱»: برافشانیم - اندازیم - بشکافیم - دراندازیم

گزینه‌ی «۳»: تندخو - بو - بگو

گزینه‌ی «۴»: عیب - غیب

۴۵- گزینه‌ی «۲»

(میثم هسین قانی، موازنه و ترصیع)

در گزینه‌ی «۲» ترصیع دیده می‌شود؛ زیرا کلمات یک به یک سجع متوازی دارند.

۴۶- گزینه‌ی «۳»

(سپهر حسن‌فان‌پور، موازنه و ترصیع)

نشاط من از عیش کم‌تر نشد

↓ ↓ ↓ ↓ ↓ ↓

امید من از عمر کوتاه نبود

۴۷- گزینه‌ی «۱»

(عارف‌سارات طباطبایی‌نژاد، ترکیبی)

بیت «الف»: کعبه‌ی دل: تشبیه / بیت «ج»: ترصیع / بیت «ب»: «نکنم»: تکرار

۴۸- گزینه‌ی «۳»

(عارف‌سارات طباطبایی‌نژاد، ترکیبی)

در بیت گزینه‌ی «۳»، موازنه دیده می‌شود. مخاطب قرارگرفتن «گریه» و «نال» آرایه‌ی استعاره‌ی مکنیه از نوع تشخیص را پدید آورده است.

۴۹- گزینه‌ی «۴»

(سؤال ۳۲۱ کتاب جامع، ترکیبی)

تشریح گزینه‌های دیگر:

گزینه‌ی «۱»: «همجو ابر بارانی» تشبیه دارد و صامت «گ» تکرار شده است.

گزینه‌ی «۲»: «سلسله‌ی زلف» و «زلیخای هوس» تشبیه دارد و صامت «ز» تکرار شده است.

گزینه‌ی «۳»: «محراب ابرو» تشبیه دارد و صامت «ر» تکرار شده است.

۵۰- گزینه‌ی «۲»

(سؤال ۳۱۷ کتاب جامع، واج‌آرایی، واژه‌آرایی)

در عبارت گزینه‌ی «۲»: چهار بار از کسره‌ی اضافه استفاده شده است.

تاریخ (۱) ایران و جهان باستان

۵۱- گزینه‌ی «۳»

(آزره میرزائی، اقتصاد و معیشت)

در عصر باستان، کشاورزی اساس زندگی اقتصادی ایرانیان به‌شمار می‌رفت و تا حدود ۵۰ سال پیش، آب مصرفی بسیاری از روستاها و حتی شهرها در نواحی مرکزی، شرقی و جنوبی کشور ما از طریق قنات‌ها تأمین می‌شد.

۵۲- گزینه‌ی «۱»

(آزره میرزائی، دین و اعتقادات)

آتشکده‌ی آذرفرنبغ در فارس خاص موبدان بود. موبدان پس از شاپور اقدامات خود را برای نابودی مانی و مانویان تشدید کردند.

۵۳- گزینه‌ی «۱»

(سکینه‌سارات سعیریان، زبان و آموزش)

زبان ایلامی، که مردمان جنوب غربی فلات ایران با آن سخن می‌گفتند، زبان رسمی و نوشتاری حکومت و تمدن ایلام بود.

۵۴- گزینه‌ی «۲»

(بهرز بیبی، زبان و آموزش)

به نظر برخی از زبان‌شناسان، منظومه‌های داستانی درخت آسوریک و یادگار زریران که به خط و زبان پهلوی ساسانی، متعلق به قرن ۵ م. هستند، ابتدا به زبان پارسی سروده شده بودند.

تکته: منظومه‌ی عاشقانه‌ی ویس و رامین، اصل و ریشه‌ی پارسی دارد.

۵۵- گزینه‌ی «۱»

(بهرز بیبی، دین و اعتقادات)

در اواسط دوره‌ی اشکانیان، دین زرتشتی نفوذ و گسترش چشمگیری یافت و یکی از پادشاهان اشکانی به نام بلاش یکم دستور داد متون پراکنده‌ی اوستا گردآوری شود. برخی از پادشاهان اشکانی به تقلید از یونانیان، معابدی را برای آن‌ها ساختند.

۵۶- گزینه‌ی «۳»

(نازنین سگستانی، دین و اعتقادات)

تشریح عبارت‌های نادرست:

(ب) طبق تعالیم زرتشت، نیکان به جرگه‌ی یاران اهورمزدا خواهند پیوست و بدان به دوزخ افکنده و «برده‌ی» اهریمن خواهند شد.

(ج) یکی از پادشاهان اشکانی به نام بلاش یکم «اقدام به گردآوری اوستا» نمود.

(د) زرتشت با قربانی کردن و کشتار بی‌رویه‌ی حیوانات به‌ویژه گاو «مخالف» بود و برگزارکنندگان آن‌ها را نکوهش کرده است.

۵۷- گزینه‌ی «۳»

(بهناز آرون، اقتصاد و معیشت)

حکومت هخامنشی با یکپارچه ساختن سرزمین‌های ثروتمند و متمدنی که مردمان آن‌ها دارای تجربیات فراوانی در تولید کالاهای مختلف بودند، کمک شایانی به رونق اقتصادی و توسعه‌ی صنعت کرد. تصویر صورت سؤال بیانگر بنای تاریخی پل دزفول متعلق به دوره‌ی ساسانی است.

۵۸- گزینه‌ی «۴»

(بهناز آرون، زبان و آموزش)

در زمان فرمانروایی خسرو انوشیروان، مبادلات فرهنگی با هند و روم گسترش یافت. یکی از برجسته‌ترین مراکز علمی جهان باستان، دانشگاهی بود که در عصر ساسانی در شهر جندی‌شاپور پدید آمد.

۵۹- گزینه‌ی «۳»

(زهره بابائی، اقتصاد و معیشت)

داریوش بزرگ، در جریان لشکرکشی به هندوستان، اسکیلوس را مأمور کشف مسیرهای آبی کرد و در زمان فرمانروایی هخامنشیان، بنادر توسعه پیدا کرد و کشتی‌هایی با ظرفیت حمل چند صد تن کالا، ساخته شد.

۶۰- گزینه‌ی «۴»

(سکینه‌سارات سعیریان، اقتصاد و معیشت)

یکی از عوامل مهم رونق تجارت در دوره‌ی اشکانیان گشایش جاده‌ی معروف ابریشم بود. ایران در آن دوره به عنوان واسطه‌ی تجاری بزرگ میان چین و هند از یک سو و اروپا از سوی دیگر عمل می‌کرد. بنابراین درآمد هنگفتی از حقوق گمرکی، عوارض حمل و نقل و راهداری، نصیب حکومت اشکانی می‌شد.



جغرافیای ایران

۶۱- * گزینه‌ی «۱»

(سیرمهر/شا راکستر، توان‌های اقتصادی ایران)

از جمله صنایع مهم کشورمان صنعت پتروشیمی است که بعد از نفت و گاز، بزرگ‌ترین بخش صنعتی کشور به‌شمار می‌رود. صنعت خودروسازی از جمله صنایعی است که در سند چشم‌انداز به آن توجه خاصی شده است.

۶۲- گزینه‌ی «۳»

(الهام میرزائی، توان‌های اقتصادی ایران)

سهام شاغلان بخش‌های مختلف اقتصادی در ایران به‌ترتیب از بیش‌ترین به کم‌ترین عبارت است از: (۱) خدمات (۲) ۵/۵۱ (۳) صنعت (۴) ۳۲/۴ کشاورزی ۱۶/۱ تنوع وضعیت آب و هوایی در ایران، موقعیت مساعدی را برای تولید انواع محصولات زراعی فراهم آورده است.

۶۳- گزینه‌ی «۳»

(میهیبه میهی، سکونتگاه‌های ایران)

بسیاری از سکونتگاه‌های اولیه، در کنار رودها به‌وجود آمده است. آب در هر مکان، در تمایل انسان به کار کشاورزی و ساکن شدن به صورت دائم در مکان، عامل مهمی است. افزایش جمعیت در سکونتگاه‌های روستایی، زمینه‌ساز ایجاد شهرهای اولیه شد.

۶۴- * گزینه‌ی «۲»

(هژبر ریهمی، سکونتگاه‌های ایران)

رشد سریع جمعیت از یک سو، بر تعداد جمعیت شهرها افزوده و از سوی دیگر با تبدیل نقاط روستایی به شهر (تأسیس شهرداری)، تعداد نقاط شهری را افزایش داده است. با این‌که شهرها به دلیل امکانات و تسهیلات، مورد توجه مهاجران بوده‌اند اما در شهرها، مخصوصاً شهرهای بزرگ، مشکلات و نارسایی‌هایی به چشم می‌خورد.

۶۵- گزینه‌ی «۳»

(زهره بابائی، توان‌های اقتصادی ایران)

تنوع زیستی ایران با وجود زیست‌بوم‌های بسیار گوناگون گیاهی و جانوری در کشور برای گردشگری علمی و طبیعت‌گردی بسیار مناسب است و موقعیت ریاضی کشورمان و گستردگی آن در عرض جغرافیایی باعث تنوع اقلیمی و چشم‌اندازهای طبیعی شده است.

۶۶- گزینه‌ی «۲»

(زهره بابائی، سکونتگاه‌های ایران)

نقش هر سکونتگاه براساس وضع جغرافیایی آن، اعم از انسانی یا طبیعی تعیین می‌شود. شهر «اراک» به دلیل وجود کارخانه‌های مهم و متعدد، نقش «صنعتی»، شهر «قم» به دلیل وجود زیارتگاه نقش «زیارتگاهی»، «سرعین» به دلیل وجود چشمه‌های آب معدنی نقش «توریستی و گردشگری» و «پیرانشهر» از نظر «نظامی» حائز اهمیت است.

توضیح نکات درسی:

توجه داشته باشید که امروزه اغلب سکونتگاه‌ها چند نقش دارند و این نقش‌ها را با هم ایفا می‌کنند.

۶۷- گزینه‌ی «۴»

(بهرروز بیبی، توان‌های اقتصادی ایران)

امروزه با توجه به مشکل کاهش منابع آبی کشور، توصیه می‌شود محور توسعه‌ی کشاورزی از زراعت به توسعه‌ی باغداری با روش‌های مدرن آبیاری تغییر یابد. اختلاف شدید درجه‌ی حرارت روزانه و سالانه در نواحی مختلف ایران، سبب ایجاد تنوع فراوان در تولیدات باغی شده است.

۶۸- گزینه‌ی «۲»

(بهرروز بیبی، سکونتگاه‌های ایران)

شهرها با توجه به چگونگی پیدایش و کارکردهای مختلف خود، شکل‌های متفاوت دارد. برخی از شهرها شکل ترکیبی دارند. این شهرها در دوره‌های مختلف گسترش پیدا کرده است. به همین دلیل شکل این شهرها از نوع ترکیبی است.

۶۹- * گزینه‌ی «۳»

(بهناز آرون، سکونتگاه‌های ایران)

فعالیت اغلب ساکنان روستا به زمین وابسته است. عشایر به‌طور مستقیم از منابع طبیعی استفاده می‌کنند. ملاک تبدیل هر سکونتگاه روستایی به شهری در ایران به تشخیص وزارت کشور، با در نظر گرفتن شرایطی مانند جمعیت ۱۰/۰۰۰ نفر و داشتن شهرداری است.

۷۰- گزینه‌ی «۴»

(بهناز آرون، توان‌های اقتصادی ایران)

بخش صنعت، محرک اصلی رشد، موفقیت و نوآوری کشورها به‌شمار می‌رود و صادرات فرش در کشور ما به دلیل بافت و نقش و نگار خاص، از اهمیت و شهرت بین‌المللی برخوردار است.

جغرافیای ایران (شاهد «گواه»)

۷۱- گزینه‌ی «۴»

(کتاب پیام، سکونتگاه‌های ایران)

۵۳ درصد شهرهای ایران در ارتفاع ۲۰۰۰ - ۱۰۰۰ متری واقع شده‌اند و بزرگ‌ترین شهرهای ایران در گذشته، در مسیر راه‌های کاروان‌رو و بازرگانی داخلی یا خارجی شکل گرفته است.

۷۲- گزینه‌ی «۱»

(کتاب پیام، سکونتگاه‌های ایران)

شهر باستانی بیشاپور که در شمال غربی کازرون قرار دارد در زمان ساسانیان از اهمیت ارتباطی مهمی در ایران برخوردار بود.

۷۳- گزینه‌ی «۳»

(کتاب پیام، سکونتگاه‌های ایران)

قدیمی‌ترین نوع سکونتگاه که در ایران شناخته شده است سکونتگاه عشایری است و روستای هیر در قزوین قرار دارد.

۷۴- گزینه‌ی «۳»

(کتاب پیام، سکونتگاه‌های ایران)

روستا محلی است که فعالیت اغلب ساکنان آن به زمین وابسته است و بیش‌تر روستاییان به کشاورزی و دامداری اشتغال دارند. روستاییان نسبت به آداب و رسوم محل زندگی خود، پایبند هستند و در کاشت، داشت و برداشت محصول با یک‌دیگر همکاری می‌کنند.

۷۵- گزینه‌ی «۳»

(کتاب پیام، سکونتگاه‌های ایران)

با توجه به مشکلات شهرهای بزرگ در سال‌های اخیر از جمله آلودگی هوا، گرانی مسکن و آسیب‌های اجتماعی، حرکت جمعیت از شهرهای بزرگ به مکان‌های کوچک‌تر یا روستاها آغاز شده است. این پدیده را «شهرگرزی یا مهاجرت معکوس» می‌گویند.

۷۶- گزینه‌ی «۱»

(کتاب پیام، توان‌های اقتصادی ایران)

سازمان جهانی گردشگری (WTO) ایران را از نظر جاذبه‌های طبیعی، در رتبه‌ی پنجم و از نظر جاذبه‌های تاریخی و فرهنگی در رتبه‌ی دهم جهانی قرار داده است.



۷۷- گزینه‌ی «۴»

(کتاب جامع، توان‌های اقتصادی ایران)

محدودیت در منابع آب و خاک، بهره‌وری کم، وجود آفات و خسارات طبیعی، نوسانات آب و هوایی، بی‌ثباتی در قیمت محصولات و ... از جمله مشکلات تولیدات زراعی در کشور است که باعث شده است کشورمان در تأمین برخی از محصولات زراعی به واردات وابسته باشد.

۷۸- گزینه‌ی «۱»

(کتاب جامع، توان‌های اقتصادی ایران)

گونه‌های بی‌نظیری مانند پسته، انار و خرمای ایرانی در جهان بی‌همتا است.

۷۹- گزینه‌ی «۲»

(کتاب جامع، توان‌های اقتصادی ایران)

بهره‌گیری از توان‌های محیطی، با هدف تأمین معاش و توجه به ابعاد مکانی در برنامه‌ریزی‌ها، به عدالت اجتماعی و اقتصادی و تعادل منطقه‌ای انواع فعالیت‌ها منجر می‌شود.

۸۰- گزینه‌ی «۳»

(کتاب جامع، توان‌های اقتصادی ایران)

توسعه‌ی پایدار به معنای تأمین نیازهای امروز، بدون کاستن از توانمندی‌های نسل‌های آینده است.

جامعه‌شناسی (۱)

۸۱- گزینه‌ی «۲»

(الهام میرزائی، هویت ایرانی «ابعاد جمعیتی و اقتصادی»)

گسترش جهان اجتماعی از طریق گسترش فرهنگ و معانی آن صورت می‌گیرد. هر عاملی که در گسترش فرهنگ و معانی مؤثر باشد، در بسط هویت جهان اجتماعی اثرگذار است. راه گسترش هر فرهنگ، شناختن، پذیرفتن و عمل کردن به آن است.

۸۲- گزینه‌ی «۳»

(الهام میرزائی، هویت ایرانی «ابعاد جمعیتی و اقتصادی»)

افزایش جمعیت یک جهان اجتماعی، به منزله‌ی گسترش فرهنگ و معانی آن است و کاهش جمعیت یک جهان اجتماعی نیز به منزله‌ی محدود شدن گستره‌ی آن است که می‌تواند زمینه‌ساز بسط و تسلط جهان‌های اجتماعی دیگر باشد. از این‌رو تأمین جمعیت مناسب برای جهان‌های اجتماعی، مسئله‌ای هویتی است و هدف اسلام تأسیس جهان اجتماعی توحیدی و گسترش آن است و لازمه‌ی تحقق این هدف، داشتن جمعیت مناسب است.

۸۳- گزینه‌ی «۳»

(سیدرضا میرزائی، هویت ایرانی «ابعاد جمعیتی و اقتصادی»)

اقتصاد نفتی، می‌تواند در کوتاه‌مدت احساس رفاه بیش‌تری را آن هم با نوسانات زیاد برای مردم به ارمغان آورد؛ اما پایدار نیست.

۸۴- گزینه‌ی «۲»

(سیدرضا میرزائی، هویت ایرانی «ابعاد جمعیتی و اقتصادی»)

کاهش جمعیت شاخص و نشانه‌ی جهان اجتماعی متجدد است، زیرا قوام خانواده و فرزند آوری در گرو محبت، ایثار و فداکاری است ولی در جهان متجدد به دلیل فردگرایی و اصالت لذت این محبت و ایثارگری کاهش می‌یابد. این جوامع هم‌اکنون برای جبران کاهش جمعیت، سیاست‌های تشویقی و هم‌چنین پذیرش مهاجران را در دستور کار خود قرار داده‌اند.

۸۵- گزینه‌ی «۴»

(زهره بابائی، هویت ایرانی)

هویت ایرانی قبل از ظهور اسلام، هویتی توحیدی، دینی و در مواردی آمیخته با اساطیر بود. هویت فرهنگی جوامع اسلامی و تصویری که تاریخ‌نگاران غربی از هویت جهان اسلام ارائه کردند، توحیدی و یا حتی اساطیری نیست بلکه هویتی سکولار و دنیوی است.

نظریه‌پردازان غربی طی قرن بیستم، سکولاریسم و دنیوی شدن را به عنوان سرنوشت مشترک و حتمی بشریت می‌دانستند.

۸۶- گزینه‌ی «۱»

(علیرضا عوش آباریان، تحولات هویتی جهان اجتماعی «علل بیرونی»)

جهان اجتماعی که دچار خودباختگی فرهنگی می‌شود، حالت فعال و خلاق خود را در گزینش عناصر فرهنگی جوامع دیگر از دست می‌دهد. این جهان ارتباطش را با فرهنگ و تاریخ خود از دست می‌دهد. خودباختگی جوامع غیرغربی در برابر جهان غرب را غرب‌زدگی می‌نامند.

۸۷- گزینه‌ی «۲»

(هژبر رهیمی، تحولات هویتی جهان اجتماعی «علل بیرونی»)

جهان‌های اجتماعی که براساس فطرت انسان شکل نگرفته‌اند و از عقاید و ارزش‌های حق برخوردار نیستند، مانع از آن می‌شوند که انسان‌ها به شناخت و تفسیری صحیح از عالم و آدم برسند. در این جهان‌های اجتماعی انسان‌ها از حقیقت خود و هستی دور می‌مانند. تصویری که از انسان ارائه می‌شود، سرایی از حقیقت است؛ به همین دلیل فطرت آدمی در این جهان به آرامش نمی‌رسد و به اضطراب و تشویش گرفتار می‌شود و در نهایت، سر به عصیان و اعتراض برمی‌دارد.

۸۸- گزینه‌ی «۴»

(هژبر رهیمی، تحولات هویتی جهان اجتماعی «علل بیرونی»، صفحه‌ی ۸۸)

تشریح عبارت نادرست:

(ج): جهان اسلام در سده‌های نخستین روبرویی با جهان‌های اجتماعی دیگر، با حفظ هویت فرهنگی خود به تعامل با آن‌ها پرداخت و به همین دلیل، عناصر سازگار با هویت خود را از آن‌ها گرفت و در موارد موردنیاز، به بازسازی آن عناصر پرداخت.

۸۹- گزینه‌ی «۱»

(سؤال ۲۶۲ کتاب جامع، هویت ایرانی «ابعاد جمعیتی و اقتصادی»)

روزنه‌ی ورود استعمار اقتصاد است و ایران اسلامی، آرمان بازسازی هویت اقتصادی خود را با اجرای قانون اساسی و سیاست‌های اقتصاد مقاومتی تعقیب می‌کند.

۹۰- گزینه‌ی «۳»

(سؤال ۲۳۱ کتاب جامع، هویت ایرانی)

فارسی دری از دیرباز به‌عنوان زبان سیاسی دربار ایران، زبان رسمی مشترک اقوام مختلفی بود که در سرزمین پهناور ایران زندگی می‌کردند. این زبان به‌دلیل مشارکت فعال ایرانیان در حیات فکری جهان اسلام، از محدوده‌ی زبان سیاسی مشترک اقوام ایرانی عبور کرد و به‌عنوان زبان دوم جهان اسلام، مرزهای مختلف امپراتوری‌های گورکانی و عثمانی را در نوردید و در مناطق مختلف جهان اسلام از هندوستان و تبت، تا آسیای صغیر و شبه جزیره‌ی بالکان گسترش یافت.